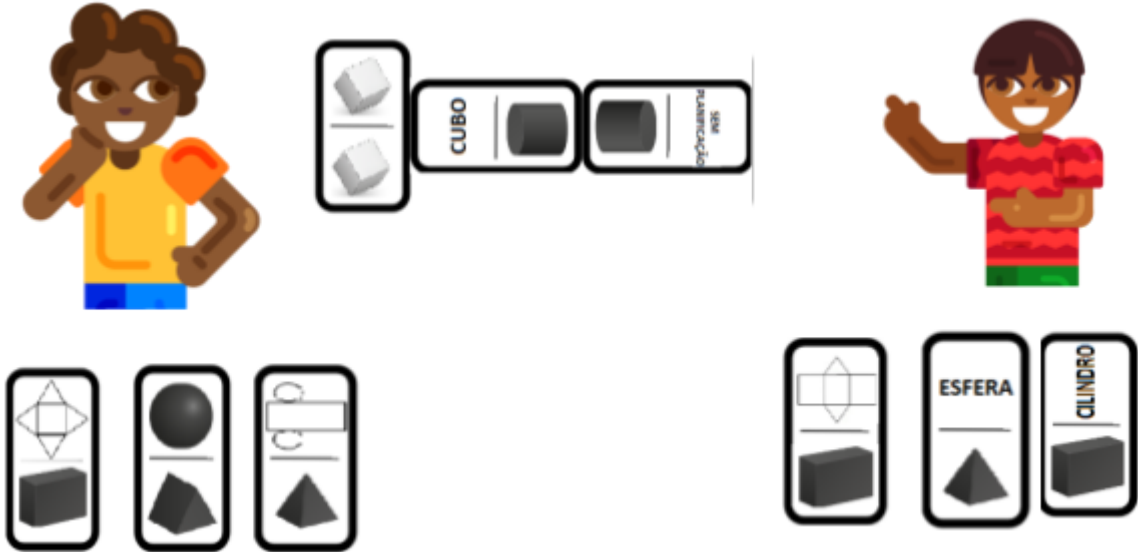


Atividades Complementares - MAT3_16GEO08

- 1) CAUÊ E MARIA ESTÃO JOGANDO O DOMINÓ DAS FIGURAS GEOMÉTRICAS NÃO PLANAS. OBSERVE AS PEÇAS QUE CADA UM TEM:



- A)** ESTÁ NA VEZ DE MARIA JOGAR QUAL É A PEÇA QUE ELA DEVE ESCOLHER PARA CONTINUAR O JOGO?

- B)** CAUÊ TEM QUE ESCOLHER UMA PEÇA PARA CONTINUAR O JOGO, ELE POSSUI ALGUMA QUE LHE PERMITA CONTINUAR O JOGO? SE SIM QUAL É ELA?

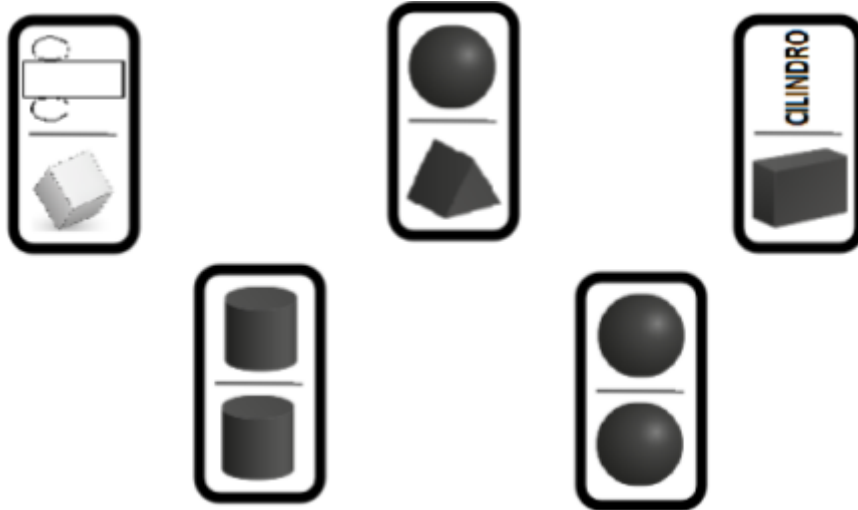
- C)** QUAIS SÃO AS POSSIBILIDADES DE PEÇAS QUE ELES PODEM USAR PARA PODER ENCAIXAR NA EXTREMIDADE DA PEÇA "SEM PLANIFICAÇÃO"?

- 2) CAUÊ GANHOU A PARTIDA. VEJA AS PEÇAS QUE SOBRARAM DE MARIA:

- A)** QUAIS SÃO OS NOMES DELAS?

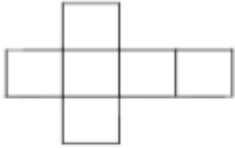

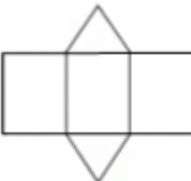


3) LIGUE DA MESMA COR AS PEÇAS QUE SUAS EXTREMIDADES COMBINEM.



DESAFIO!

AS FIGURAS GEOMÉTRICAS NÃO PLANAS PODEM SER IDENTIFICADAS ATRAVÉS DE DIVERSAS MANEIRAS. OBSERVE AS IMAGENS ABAIXO E COMPLETE QUAL É A IDENTIFICAÇÃO FALTANTE, CASO NECESSÁRIO, REPRESENTE POR MEIO DE UM DESENHO.

 <div data-bbox="450 1142 746 1290" style="border: 1px solid black; padding: 5px;"> <p>_____</p> <p>_____</p> <p>_____</p> </div>	 <div data-bbox="997 1142 1278 1290" style="border: 1px solid black; padding: 5px;"> <p>_____</p> <p>_____</p> <p>_____</p> </div>
<p>ESFERA</p> <div data-bbox="450 1505 746 1653" style="border: 1px solid black; padding: 5px;"> <p>_____</p> <p>_____</p> <p>_____</p> </div>	 <div data-bbox="997 1512 1278 1659" style="border: 1px solid black; padding: 5px;"> <p>_____</p> <p>_____</p> <p>_____</p> </div>