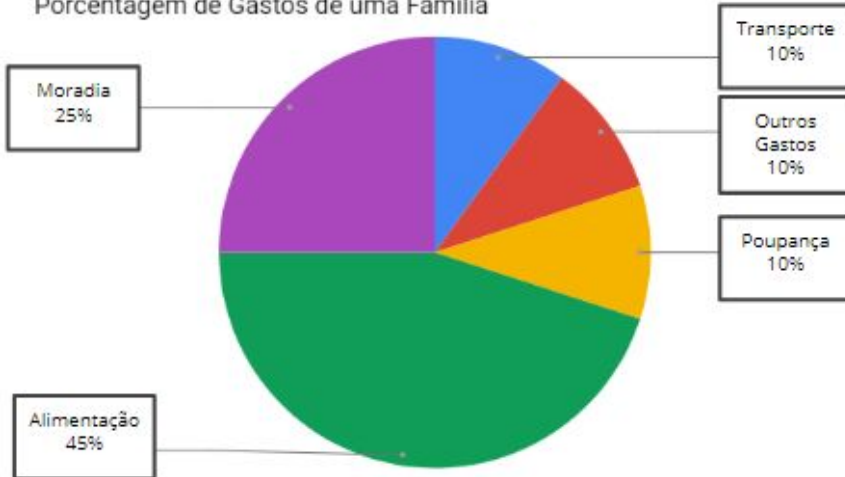


Porcentagem de Gastos de uma Família

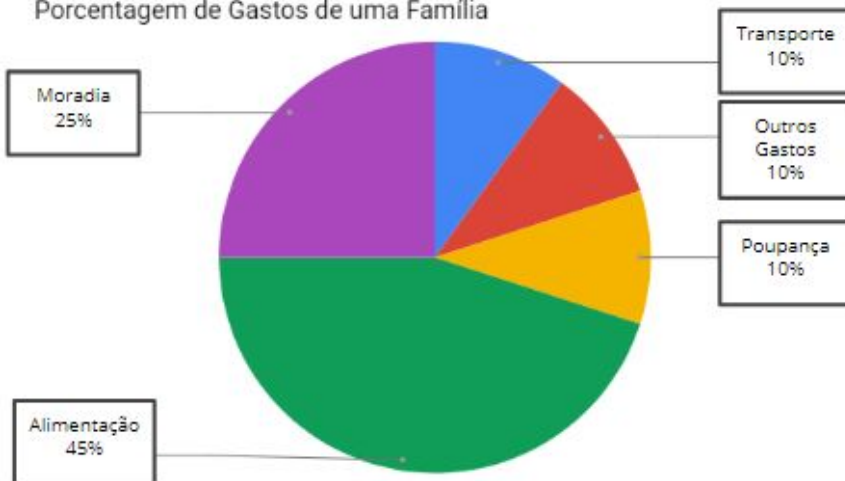


Foi feita uma pesquisa de como uma família gastava o rendimento do mês, e constou-se que:

Então responda:

- a) Se a renda familiar for de R\$ 3.750,00 quanto será o gasto para cada item?
- b) Se a renda familiar for de R\$ 4.980,00 quanto será o gasto para cada item?

Porcentagem de Gastos de uma Família

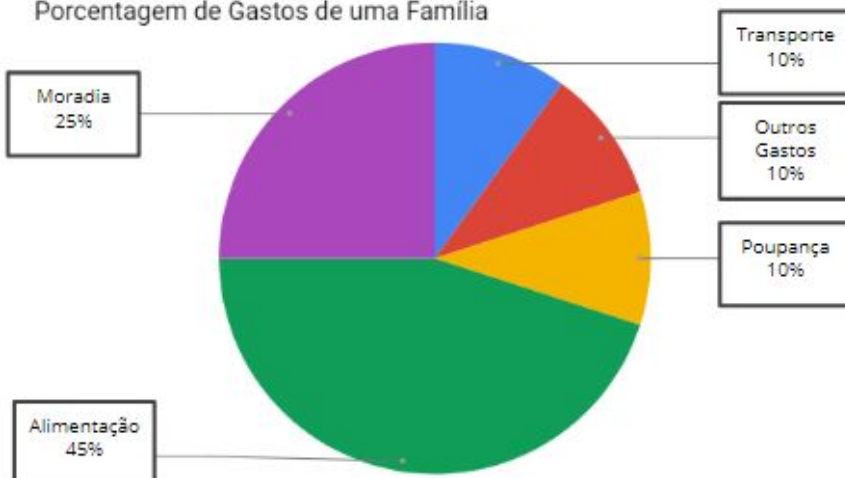


Foi feita uma pesquisa de como uma família gastava o rendimento do mês, e constou-se que:

Então responda:

- a) Se a renda familiar for de R\$ 3.750,00 quanto será o gasto para cada item?
- b) Se a renda familiar for de R\$ 4.980,00 quanto será o gasto para cada item?

Porcentagem de Gastos de uma Família



Foi feita uma pesquisa de como uma família gastava o rendimento do mês, e constou-se que:

Então responda:

- a) Se a renda familiar for de R\$ 3.750,00 quanto será o gasto para cada item?
- b) Se a renda familiar for de R\$ 4.980,00 quanto será o gasto para cada item?