







**Resolução da atividade complementar - MAT3\_03NUM03**

1-)

 5 024	 5 028	 5 032
 5 048	 5 064	 5 072

Nesta reta os números estão dispostos de 8 em 8.

2-)

Ao observarmos os três primeiros números, percebemos que o intervalo da reta é de 15 em 15. Sendo assim, os números que foram utilizados de forma inadequada são: 7 255, 7 265, 7 270 e 7 300.

Se colocarmos os números corretos na reta, ela ficará da seguinte maneira:



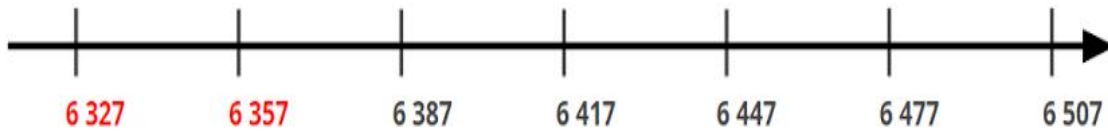
**DESAFIO**

3-) Para a plaquinha **A** temos as seguintes possibilidades:

**DE 10 EM 10**



**DE 30 EM 30**



Para a plaquinha **B** temos as seguintes possibilidades:

**DE 8 EM 8**



**DE 4 EM 4**



Para a plaquinha **C** temos as seguintes possibilidades:

**DE 300 EM 300**



**DE 150 EM 150**



EXISTEM OUTRAS POSSIBILIDADES DE SOLUÇÃO.