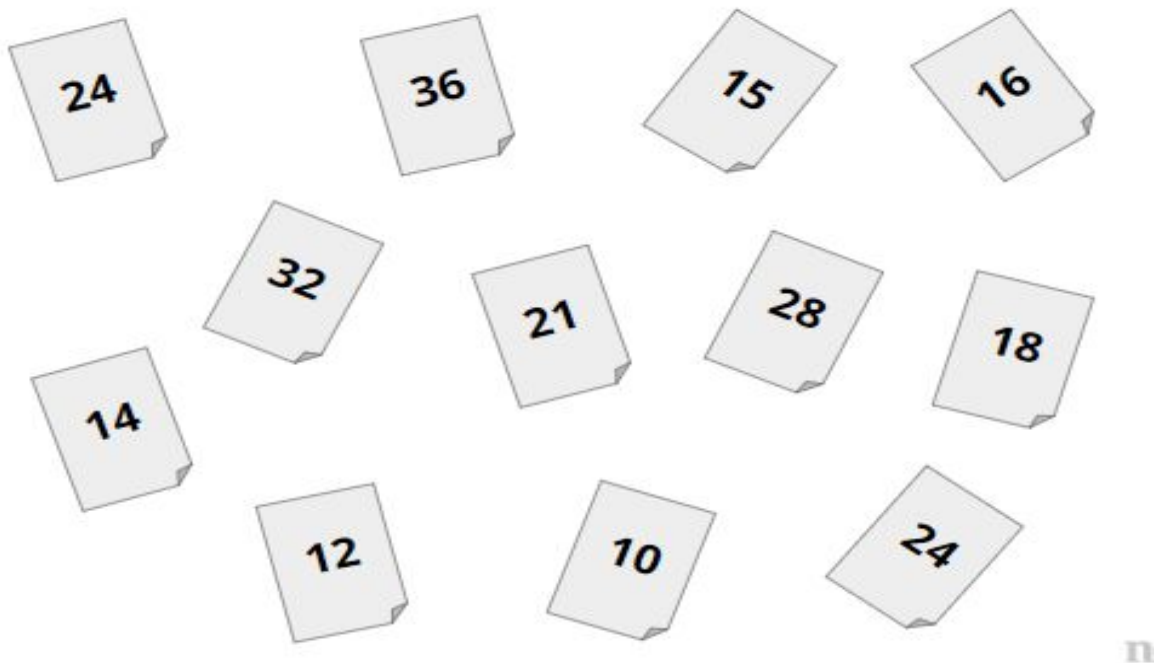


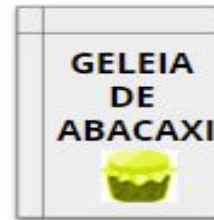
Resolução da Atividade - MAT1_07ALG04

**JOÃO FAZ GELEIAS PARA VENDER. SÃO MUITO SABOROSAS E ELE VENDE BASTANTE.
A CADA SEMANA ELE AUMENTA A QUANTIDADE SEGUINDO UMA REGULARIDADE.
E ELE É MUITO ORGANIZADO, ANOTA TUDO.
MAS... UM DIA APARECEU A BRUXA TECA.
A BRUXA TECA GOSTA DE FAZER MUITAS TRAVESSURAS.
POR ONDE PASSA TROCA TUDO DE LUGAR.
HOJE ELA PASSOU NA CASA DE JOÃO E BAGUNÇOU AS ANOTAÇÕES QUE ELE HAVIA FEITO.**

FOI ASSIM QUE TECA DEIXOU AS ANOTAÇÕES DE JOÃO.



**SEU TRABALHO É DESCOBRIR COMO ESTAVAM AS ANOTAÇÕES DE JOÃO ANTES DA BRUXA TECA PASSAR.
OBSERVE COMO ERA O COMEÇO DAS ANOTAÇÕES DE CADA SABOR DE GELEIA. RECORTE E COLE OS NÚMEROS QUE TECA BAGUNÇOU COMPLETANDO A SEQUÊNCIA.
LEMBRE-SE QUE JOÃO SEGUIA UM PADRÃO EM CADA SABOR!**



1ª SEMANA	2ª SEMANA	3ª SEMANA	4ª SEMANA	5ª SEMANA	6ª SEMANA	7ª SEMANA	8ª SEMANA
2	4	6	8	10	12	14	16

Resolução:

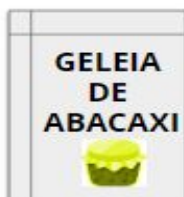
Na geleia de uva os números avançam adicionando-se 2 unidades ao anterior. Para resolver, o aluno pode contar os números que faltam entre cada semana e perceber que elas aumentam adicionando 2 da 1ª para a 2ª semana, mais 2 da 2ª para a 3ª semana e mais 2 da 3ª para a 4ª. Continuando nesse mesmo padrão ele contará os demais e encontrará os valores 10, 12, 14 e 16..



1ª SEMANA	2ª SEMANA	3ª SEMANA	4ª SEMANA	5ª SEMANA	6ª SEMANA	7ª SEMANA	8ª SEMANA
3	6	9	12	15	18	21	24

Resolução:

Na geleia de laranja os números avançam adicionando-se 3 unidades ao anterior. Para resolver, o aluno pode contar os números que faltam entre cada semana e perceber que elas aumentam adicionando 3 da 1ª para a 2ª semana, mais 3 da 2ª para a 3ª semana e mais 3 da 3ª para a 4ª. Continuando nesse mesmo padrão ele contará os demais e encontrará os valores 15, 18, 21 e 24.



1ª SEMANA	2ª SEMANA	3ª SEMANA	4ª SEMANA	5ª SEMANA	6ª SEMANA	7ª SEMANA	8ª SEMANA
4	8	12	16	20	24	28	32

Resolução:

Na geleia de abacaxi os números avançam adicionando-se 4 unidades ao anterior. Para resolver, o aluno pode contar os números que faltam entre cada semana e perceber que elas aumentam adicionando 4 da 1ª para a 2ª semana, mais 4 da 2ª para a 3ª semana e mais 4 da 3ª para a 4ª. Continuando nesse mesmo padrão ele contará os demais e encontrará os valores 20, 24, 28 e 32.