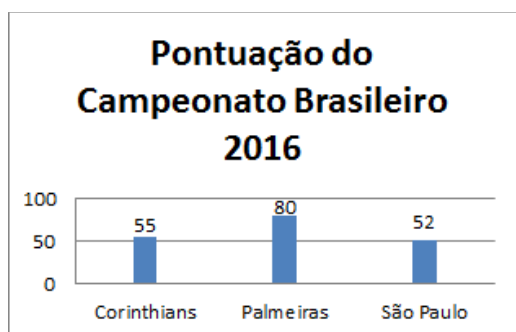
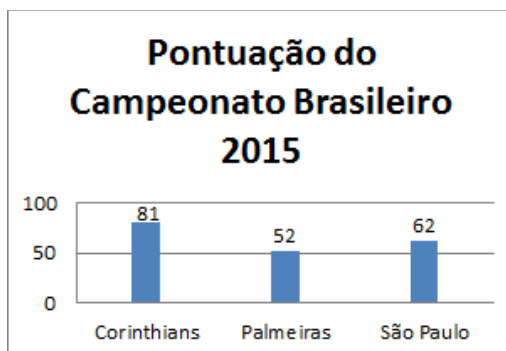
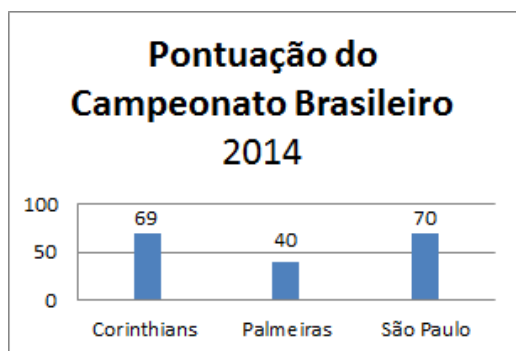


Analise os gráficos:



a) Qual a média e a mediana da pontuação do Corinthians, Palmeiras e São Paulo?

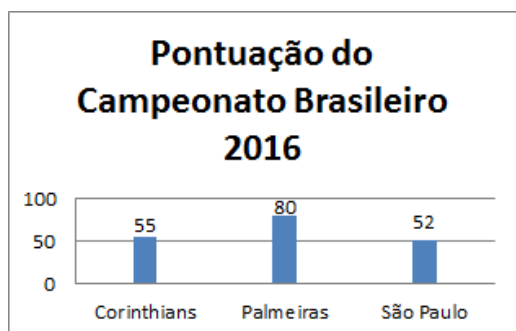
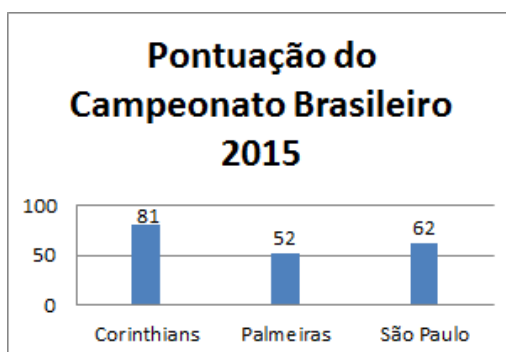
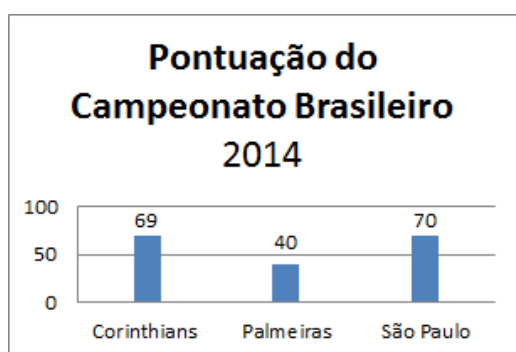
b) Calcule a diferença da maior com a menor pontuação de cada time. Comparando este resultado com a média e mediana, é correto afirmar que o Palmeiras foi o que menos pontuou?

c) Se a média definisse o ganhador do próximo ano, quem seria o Campeão entre esses três times?

-----

-----

Analise os gráficos:



a) Qual a média e a mediana da pontuação do Corinthians, Palmeiras e São Paulo?

b) Calcule a diferença da maior com a menor pontuação de cada time. Comparando este resultado com a média e mediana, é correto afirmar que o Palmeiras foi o que menos pontuou?

c) Se a média definisse o ganhador do próximo ano, quem seria o

Campeão entre esses três times?