

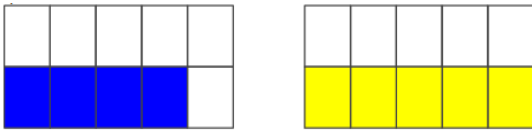
Observe as imagens apresentadas abaixo:



Entre os números racionais a seguir, quais podem ser utilizados para representar a figura colorida de azul? E a figura colorida de amarelo?

$$0,4 \quad 0,5 \quad \frac{1}{2} \quad \frac{5}{10} \quad \frac{4}{10} \quad \frac{2}{5}$$

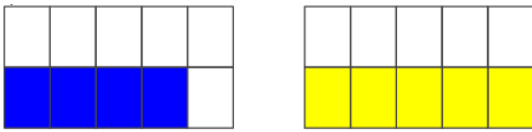
Observe as imagens apresentadas abaixo:



Entre os números racionais a seguir, quais podem ser utilizados para representar a figura colorida de azul? E a figura colorida de amarelo?

$$0,4 \quad 0,5 \quad \frac{1}{2} \quad \frac{5}{10} \quad \frac{4}{10} \quad \frac{2}{5}$$

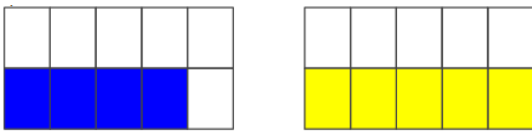
Observe as imagens apresentadas abaixo:



Entre os números racionais a seguir, quais podem ser utilizados para representar a figura colorida de azul? E a figura colorida de amarelo?

$$0,4 \quad 0,5 \quad \frac{1}{2} \quad \frac{5}{10} \quad \frac{4}{10} \quad \frac{2}{5}$$

Observe as imagens apresentadas abaixo:



Entre os números racionais a seguir, quais podem ser utilizados para representar a figura colorida de azul? E a figura colorida de amarelo?

$$0,4 \quad 0,5 \quad \frac{1}{2} \quad \frac{5}{10} \quad \frac{4}{10} \quad \frac{2}{5}$$