




Atividade complementar - MAT1_06ALG01

1-TRÊS ALUNOS IRÃO UTILIZAR AS FIGURAS DAS FICHAS, QUE ESTÃO COLADAS NO FUNDO DO ASSENTO DE SUAS RESPECTIVAS CADEIRAS, PARA FORMAR UM PADRÃO COM 3 POSES. DEPOIS, OS DEMAIS ALUNOS IRÃO DESCREVER O PADRÃO FORMADO E DEVERÃO COMPLETAR A SEQUÊNCIA ATÉ QUE ACABEM AS FICHAS. OS SEIS ALUNOS ESCOLHIDOS INICIALMENTE COMBINARÃO AS FIGURAS DE MODO A FAZER O PADRÃO SE REPETIR DUAS VEZES. DEPOIS DO PADRÃO FORMADO, OS DEMAIS ALUNOS VIRÃO COMPOR O RESTANTE DA SEQUÊNCIA. ESSAS SÃO AS FICHAS:



2-ANALISE A SEQUÊNCIA APRESENTADA. CONTE PARA UM COLEGA O QUE VOCÊ PERCEBEU EM RELAÇÃO À REGULARIDADE DAS FIGURAS. DEPOIS, RECORTE AS FIGURAS IMPRESSAS NO FINAL DA FOLHA PARA COMPLETAR AS SEQUÊNCIAS.



[DESAFIO] OBSERVE A SEQUÊNCIA, DESCREVA-A E, DEPOIS, COMPLETE-A DESENHANDO.

