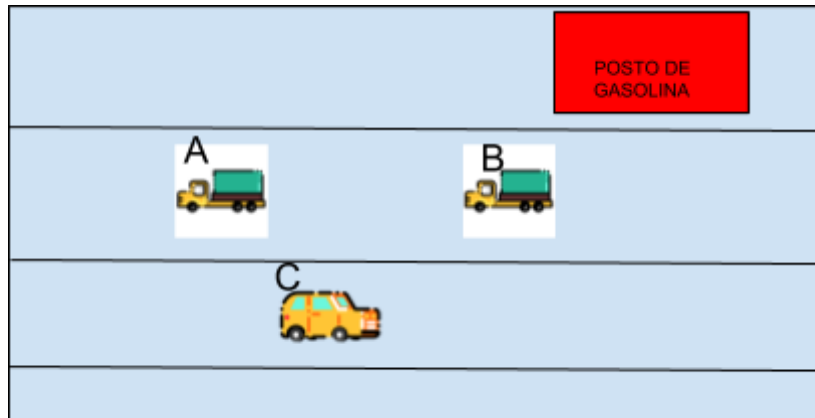



1- Três automóveis movimentam-se numa rua. Observando a imagem abaixo, podemos afirmar que:



- (A) O caminhão A vai cruzar com o caminhão B e o carro C ao mesmo tempo.
  - (B) O caminhão B e o carro C estão rodando em direção opostas.
  - (C) O caminhão A está se aproximando do posto de gasolina.
  - (D) O carro C está rodando na mesma direção que o caminhão A.
- 

2- Observe a malha quadriculada abaixo e responda com atenção:

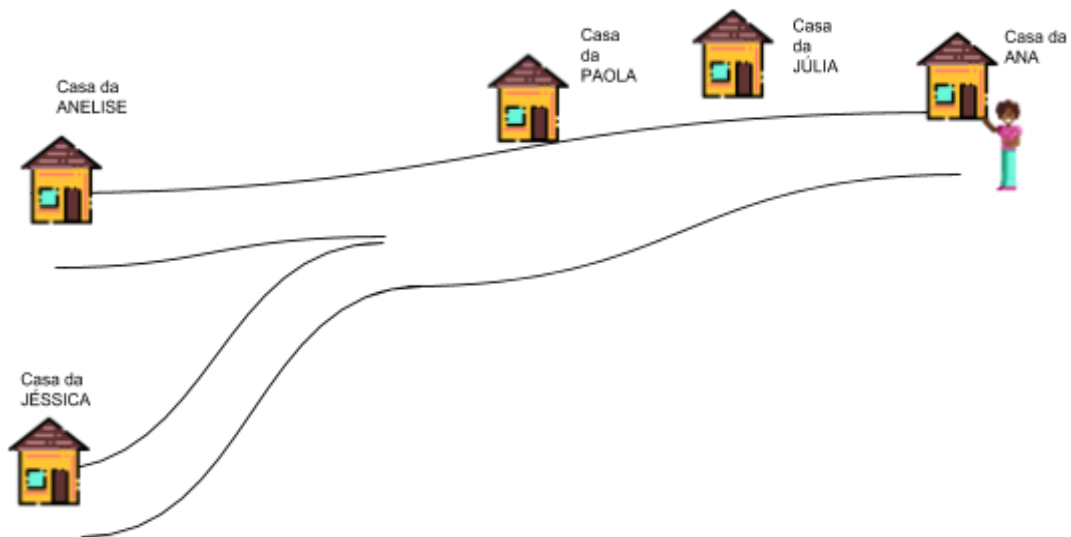


A roda traseira da moto está localizada em:

- (A) C2
  - (B) D5
  - (C) C5
  - (D) D4
-

### 3 - DESAFIO!

Ana estava em frente à sua casa e decidiu visitar uma amiga. Observe:



Se, para chegar a casa da sua amiga, Ana andou para frente, fez uma curva à esquerda e depois entrou na primeira rua à sua esquerda, quem foi a amiga visitada?

- (A) Júlia
- (B) Paola
- (C) Anelise
- (D) Jéssica