
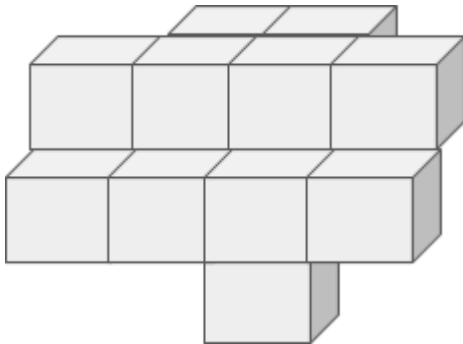
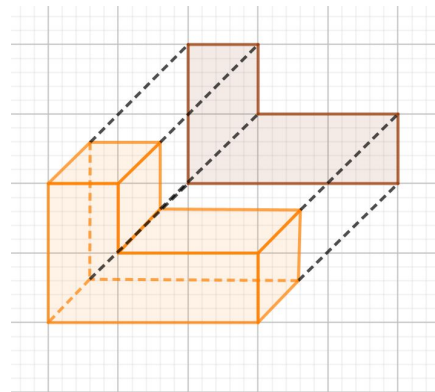


- 1) Abaixo está um sólido geométrico, represente na malha quadriculada um sólido geométrico que se encaixe nele para que a vista lateral seja em formato de L:



- 2) O sólido abaixo foi projetado em um plano, na figura pode ser observada sua vista frontal, determine a área dessa vista, sabendo que a malha está dividida em quadrados de 1 cm de lado.



- 3) **[Desafio]** Analise o sólido geométrico abaixo, represente as vistas laterais esquerda e direita, superior, inferior e frontal. Sabendo que cada cubinho tem 1cm^3 determine a área destas vistas:

