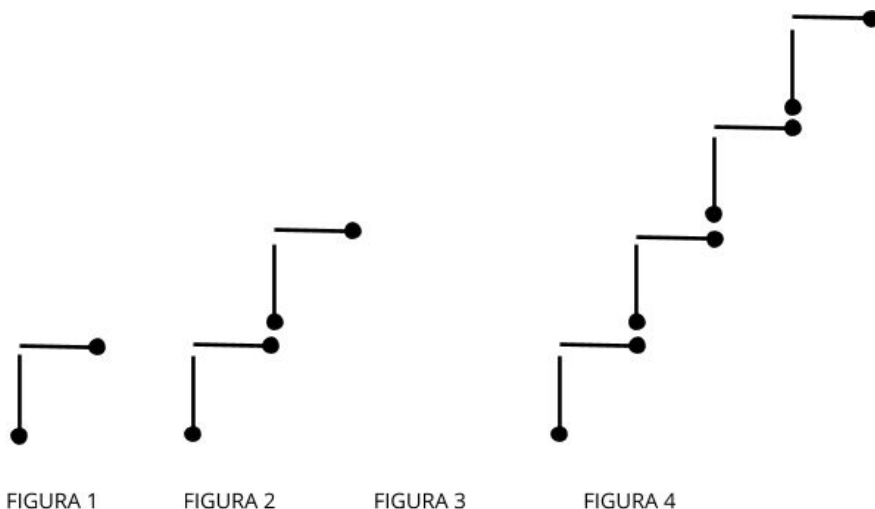
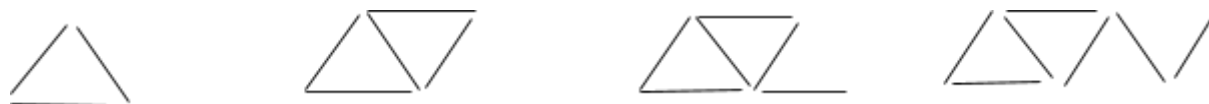






1- OBSERVE A SEQUÊNCIA A SEGUIR E DETERMINE A FIGURA 3:



2- MARIANA UTILIZOU SEUS PALITOS PARA CONSTRUIR TRIÂNGULOS, E DESAFIOU CAUÊ A COMPLETAR AS FIGURAS COM OS PALITOS QUE FALTAM. INVESTIGUE E DESCUBRA O QUE FALTA NA SEQUÊNCIA DE FIGURAS:



3- [DESAFIO] GUILHERME ESTÁ ORGANIZANDO UMA COLEÇÃO DE TAMPINHAS E RESOLVEU TABELAR QUANDO ENCONTRAVA NOVAS TAMPINHAS PARA SUA COLEÇÃO. VEJA COMO FICOU NA PRIMEIRA SEMANA:

SEGUNDA - FEIRA	TERÇA - FEIRA	QUARTA - FEIRA	QUINTA - FEIRA	SEXTA - FEIRA
				

ACONTECE QUE GUILHERME ESQUECEU DE ANOTAR SUAS TAMPINHAS NA QUARTA-FEIRA. INVESTIGUE O PADRÃO E DESCUBRA QUANTAS TAMPINHAS ELE TINHA NESTE DIA.