










1. COMO VOCÊ PAGARIA ESSE AZEITE USANDO 2 CÉDULAS E 3 MOEDAS?



R\$ 18,00

RECORTE E COLE NO ESPAÇO ACIMA AS CÉDULAS E MOEDAS QUE VOCÊ UTILIZARIA PARA PAGAR O AZEITE.

2. DE QUANTAS MANEIRAS VOCÊ CONSEGUE FORMAR R\$ 20,00?

PARA RESPONDER DESENHE E PINTE AS CÉDULAS DE ACORDO COM AS CORES CORRESPONDENTES.

COM 1 CÉDULA	COM 2 CÉDULAS	COM 4 CÉDULAS	COM 10 CÉDULAS



