











ATIVIDADE COMPLEMENTAR 1

ANA, BETE , CAROL E DUDA ESTAVAM BRINCANDO DE JOGAR BOLINHAS DE PAPEL EM UMA LATA. CADA UM JOGAVA 5 BOLINHAS E CONFORME AS CORES, CONTAVAM OS PONTOS ASSIM:

15 PONTOS	20 PONTOS	2 PONTOS
BOLINHA AZUL	BOLINHA VERDE	BOLINHA LARANJA
		

OBSERVE A COR QUE CADA UM USOU E QUANTOS PONTOS FEZ E COMPLETE A TABELA REALIZANDO O CÁLCULO MENTAL.

JOGADORES	BOLINHA AZUL 15 PONTOS	BOLINHA VERDE 20 PONTOS	BOLINHA LARANJA 2 PONTOS	TOTAL DE PONTOS
ANA				
BETE				
CAROL				
DUDA				

ATIVIDADE COMPLEMENTAR 2

REALIZE O CÁLCULO MENTAL: PINTE AS OPERAÇÕES CUJO RESULTADO É O INDICADO AO LADO DO QUADRO.

A)



25

$20 + 5 =$

$12 + 13 =$

$15 + 10 =$

B)

60

$40 + 20 =$

$30 + 30 =$

$35 + 15 =$

$10 + 10 + 40 =$

$100 - 40 =$

$20 + 5 + 20 =$

C)

100

$50 + 50 =$

$20 + 35 + 50 =$

$10 + 90 =$

$82 + 18 =$

$64 + 6 + 30 =$

$88 + 32 + 10 =$

D)

ATIVIDADE “DESAFIO”

VAMOS LER A EXPLICAÇÃO DE BEATRIZ SOBRE COMO ELA RESOLVEU A SITUAÇÃO- PROBLEMA ABAIXO ATRAVÉS DO **CÁLCULO MENTAL**.

SITUAÇÃO- PROBLEMA:

MARIA FAZ BOLOS PARA VENDER NA FEIRA. ONTEM PREPAROU 448 PEDAÇOS DE BOLOS PARA SEREM VENDIDOS. AO FINAL DA FEIRA, PERCEBEU QUE APENAS HAVIA VENDIDO 129 PEDAÇOS. QUANTOS PEDAÇOS DE BOLOS AINDA RESTARAM?



PARA RESOLVER ESTA SITUAÇÃO-PROBLEMA, EU FUI TIRANDO PARTES DO NÚMERO, DE UM MODO QUE FIQUE FÁCIL PARA FAZER DE CABEÇA. VEJA, EM $448 - 129$, PARA TIRAR O 9, PRIMEIRO EU TIREI 8, DEPOIS 1 E DEU 439. DEPOIS TIREI O 20, OU PODERIA TER TIRADO 10 E 10, FICANDO 419. FINALMENTE TIREI O 100 E DEU 319.



$$448 - 129 =$$

$$448 - 8 = 440$$

$$440 - 1 = 439$$

$$439 - 20 =$$

$$419 - 100 = 319$$

$$\text{ENTÃO : } 448 - 129 = \mathbf{319}$$



RESPONDA:

A- FORME DUPLAS E CONVERSE COM SEU AMIGO SOBRE COMO BEATRIZ PENSOU PARA FAZER ESSA SUBTRAÇÃO E SE É OU NÃO É UM BOM JEITO PARA RESOLVER SUBTRAÇÕES. REGISTRE SUA RESPOSTA ABAIXO

B- TENDE RESOLVER DA SUA MANEIRA UTILIZANDO O CÁLCULO MENTAL.

**SUA MANEIRA DE RESOLVER
ATRAVÉS DO CÁLCULO MENTAL**

C- EXPLIQUE COMO VOCÊ REALIZOU O CÁLCULO MENTAL.
