



## Atividade de Raio X - MAT1\_18PES08

QUAIS CONCLUSÕES VOCÊ PODE TIRAR LENDO A TABELA? FAÇA UM X NAS AFIRMAÇÕES QUE ESTIVEREM CORRETAS:

ANIMAIS DE ESTIMAÇÃO DA TURMA	
ANIMAIS	NÚMERO DE CRIANÇAS
CACHORRO 	
GATO 	
PEIXE 	
COELHO 	
NENHUM ANIMAL	





( ) A MAIORIA DAS CRIANÇAS TEM ANIMAIS DE ESTIMAÇÃO.

( ) TODAS AS CRIANÇAS TÊM ANIMAIS COM PELOS.

( ) O COELHO É O ANIMAL QUE AS CRIANÇAS MENOS TÊM EM CASA.

( ) 12 CRIANÇAS TÊM PEIXE.

QUAIS CONCLUSÕES VOCÊ PODE TIRAR LENDO A TABELA? FAÇA UM X NAS AFIRMAÇÕES QUE ESTIVEREM CORRETAS:

ANIMAIS DE ESTIMAÇÃO DA TURMA	
ANIMAIS	NÚMERO DE CRIANÇAS
CACHORRO 	
GATO 	
PEIXE 	
COELHO 	
NENHUM ANIMAL	

( ) A MAIORIA DAS CRIANÇAS TEM ANIMAIS DE ESTIMAÇÃO.

( ) TODAS AS CRIANÇAS TÊM ANIMAIS COM PELOS.

( ) O COELHO É O ANIMAL QUE AS CRIANÇAS MENOS TÊM EM CASA.

( ) 12 CRIANÇAS TÊM PEIXE.