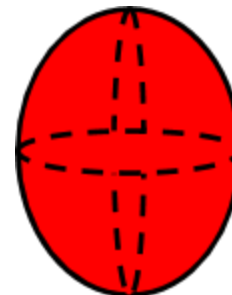
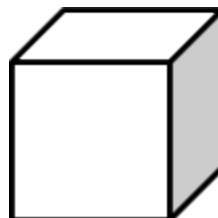




## RESOLUÇÃO DAS ATIVIDADES COMPLEMENTARES - MAT1\_GEO10

1- OBSERVE AS FORMAS ABAIXO E PINTE SOMENTE AS QUE NÃO POSSUEM VÉRTICES:



Espera-se que os  
quais das formas não há vértices.

alunos por meio da observação percebam em

2- ASSINALE COM X AS FORMAS QUE POSSUEM VÉRTICES:

**BLOCO RETANGULAR**

**CILINDRO**

**ESFERA**

**CUBO**

Nesta atividade, os alunos precisarão conhecer o nome das formas e identificar quais delas possuem vértices. As imagens da atividade interior poderá auxiliá-los na percepção.

### 3- DESAFIO:

DESENHE DOIS OBJETOS DA SUA CASA QUE TENHAM VÉRTICES. PEÇA AJUDA DE ALGUÉM PARA ESCREVER O NOME DELES:

O desafio desta tarefa é identificar objetos do dia a dia que possuam vértices. É possível que os alunos desenhem geladeira, micro-ondas, armário, máquina de lavar, caixa de som, etc.

