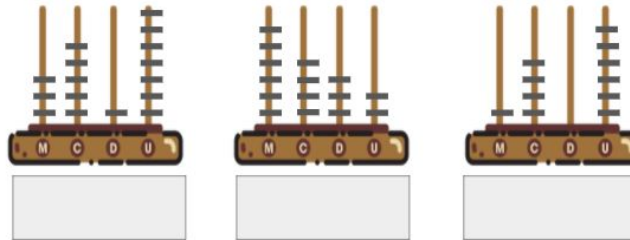


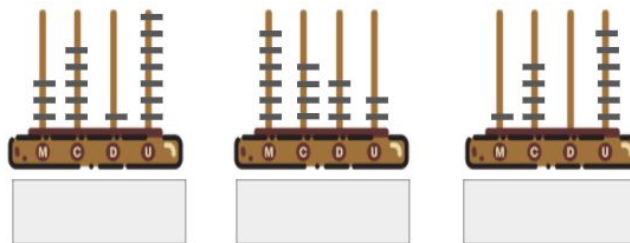
Observe os desenhos dos ábacos abaixo e registre os números representados neles:



Quanto falta para ser representado em cada ábaco o número 10 000?

-----

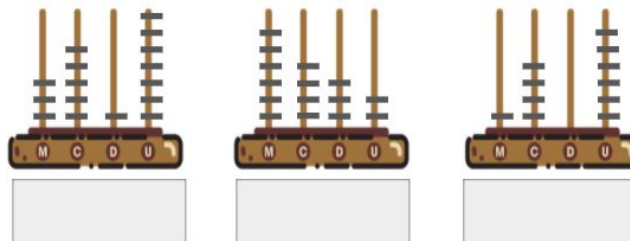
Observe os desenhos dos ábacos abaixo e registre os números representados neles:



Quanto falta para ser representado em cada ábaco o número 10 000?

-----

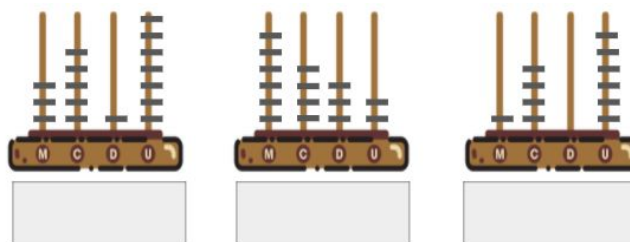
Observe os desenhos dos ábacos abaixo e registre os números representados neles:



Quanto falta para ser representado em cada ábaco o número 10 000?

-----

Observe os desenhos dos ábacos abaixo e registre os números representados neles:



Quanto falta para ser representado em cada ábaco o número 10 000?