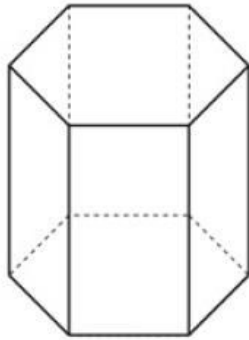
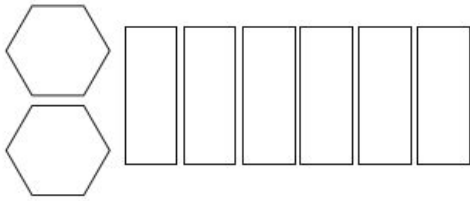
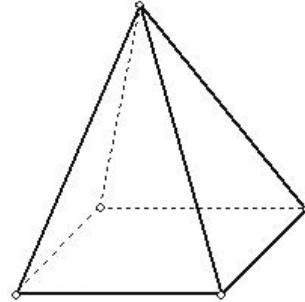
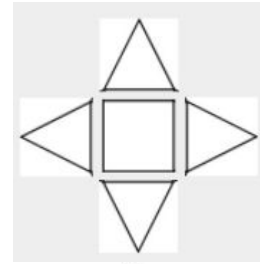


Resolução do raio x - MAT4_20GEO_06**DESAFIO - AGORA É COM VOCÊ!**

Observe os polígonos abaixo que representam as faces e bases de um poliedro. Nomeie os poliedros de acordo com os polígonos que compõem a sua planificação.



POLIEDRO:Prisma hexagonal



POLIEDRO:Pirâmide de base quadrada