




1) SEGUINDO A TABELA , DESENHE E OU INDIQUE A ESCOLHA DE CADA UM. VEJA O EXEMPLO A ADRIANA FOI UMA DAS QUE ESCOLHEU BOLA :

| ESCOLHA DOS BRINQUEDOS PREFERIDOS 2º ANO | |
|--|------------------------|
| BRINQUEDOS | QUANTIDADE DE CRIANÇAS |
|  | 4 |
|  | 4 |
|  | 3 |



2) SABENDO QUE O GRUPO DE AMIGOS DE 20 PESSOAS PARTICIPOU DE UMA PESQUISA PARA SABER A PREFERÊNCIA ENTRE SABORES DE SORVETES. O QUERIDINHO DA GALERA FOI O CHOCOLATE. DESCUBRA A TABELA CORRETA.

A)

| SABORES | QUANTIDADE DE PESSOAS |
|-----------|-----------------------|
| CHOCOLATE | 10 |
| MORANGO | 3 |
| BAUNILHA | 4 |
| COCO | 2 |
| OUTROS | 1 |

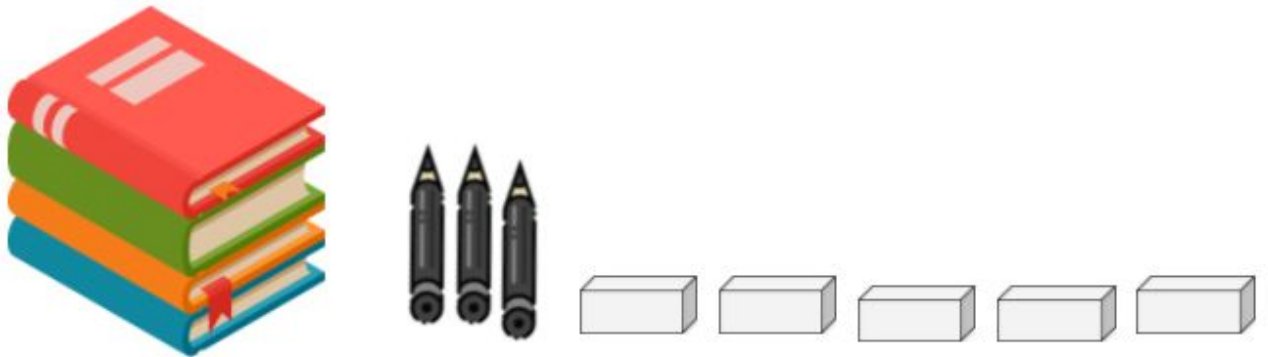
B)

| SABORES | QUANTIDADE DE PESSOAS |
|-----------|-----------------------|
| CHOCOLATE | 5 |
| MORANGO | 2 |
| BAUNILHA | 4 |
| COCO | 2 |
| OUTROS | 1 |



[DESAFIO] EM UMA TABELA ANA ORGANIZOU TODOS OS MATERIAIS DA SALA DE AULA. COMPLETE O QUE AINDA FALTA:

| MATERIAL | QUANTIDADE |
|----------|------------|
| | 3 |
| BORRACHA | |
| CADERNOS | |



EM UMA TABELA ANA ORGANIZOU TODOS OS MATERIAIS DA SALA DE AULA. COMPLETE O QUE AINDA FALTA:

| MATERIAL | QUANTIDADE |
|----------|------------|
| | 3 |
| BORRACHA | |
| CADERNOS | |

