


Resolva as atividades a seguir utilizando seus conhecimentos de resolução de problemas:

**1)** A cantina da escola recebeu um estoque de 240 caixinhas de sucos. Dessas caixinhas, 30 foram devolvidas por estarem fora da validade, 14 foram doadas e o restante foram distribuídas igualmente em 4 prateleiras. Quantas caixinhas de suco a funcionária deverá colocar em cada prateleira?


---

**2)** O pai de Bruno foi a uma loja comprar um relógio e viu o anúncio abaixo.

Qual será a diferença de valor se eu parcelar em 5x ou em 10x?



5 x de 64 reais  
ou  
10 x de 35 reais




---

**3) [Desafio]:**


Numa aposta, três amigos tentaram adivinhar quantas bolinhas pula-pula havia dentro da máquina de uma loja.

Os palpites foram os seguintes:


282




335



163





Quando a dona da loja abriu a máquina para fazer a contagem, eles viram que um dos palpites estava errado por 44 bolinhas, o outro por 9, para mais ou para menos, e o outro indicou exatamente a metade.

Tente descobrir quantas bolinhas havia na máquina.