












Resolução atividade principal - MAT2_03NUM03

Vamos formar valores, utilizando os símbolos!

Com apoio dos símbolos, represente a formação dos valores a seguir (utilize mais de uma figura):

- a) 25 unidades: * ou  ou * ou outras.
- b) 10 unidades: 
- c) 45 unidades:  ou * ou outras.
- d) 70 unidades:  ou * ou outras.

Agora represente a formação dos valores maiores, a seguir (utilize mais de uma imagem):

- a) 290 unidades:  ou outras.
- b) 450 unidades:  ou outras.
- c) 190 unidades:  ou outras.

Observação: considerar outras combinações de figuras!