

## Atividades complementares MAT1\_16GRM02

1. LEIA OS VALORES E CRIE REPRESENTAÇÕES, UTILIZANDO CÉDULAS DO SISTEMA MONETÁRIO BRASILEIRO:

R\$ 14,00

R\$ 6,00

2. ESCREVA OS VALORES REPRESENTADOS PELAS CÉDULAS:

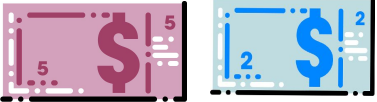



	
	
	
	

# Atividades complementares MAT1\_16GRM02

---


## 3. DESAFIO

OBSERVE O QUADRO ABAIXO, LEIA, ESCREVA OS VALORES REPRESENTADOS E ORGANIZE EM SEU CADERNO, DO MENOR PARA O MAIOR VALOR, UTILIZANDO OS VALORES ESCRITOS:

 <p>R\$ _____</p>	 <p>R\$ _____</p>
 <p>R\$ _____</p>	 <p>R\$ _____</p>


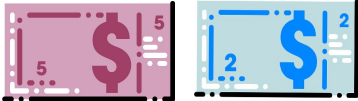
# Atividades complementares MAT1\_16GRM02

Box 1 (top right):



R\$ \_\_\_\_\_

Box 2 (bottom left):



R\$ \_\_\_\_\_