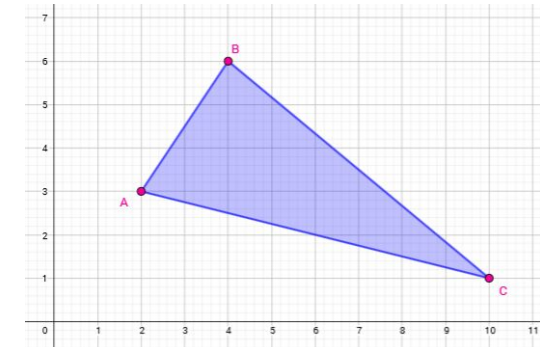
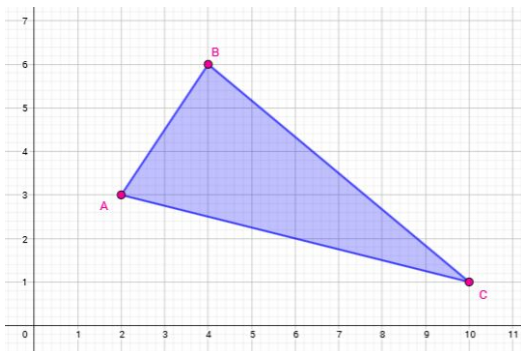


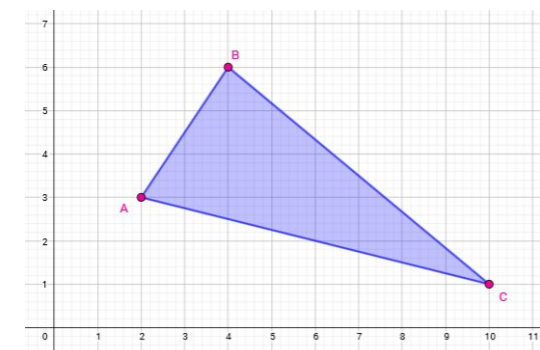
O triângulo está representado no plano cartesiano. Quais as coordenadas de seus vértices A, B e C?



O triângulo está representado no plano cartesiano. Quais as coordenadas de seus vértices A, B e C?



O triângulo está representado no plano cartesiano. Quais as coordenadas de seus vértices A, B e C?



O triângulo está representado no plano cartesiano. Quais as coordenadas de seus vértices A, B e C?

---