


Atividades complementares MAT1_16GRM07

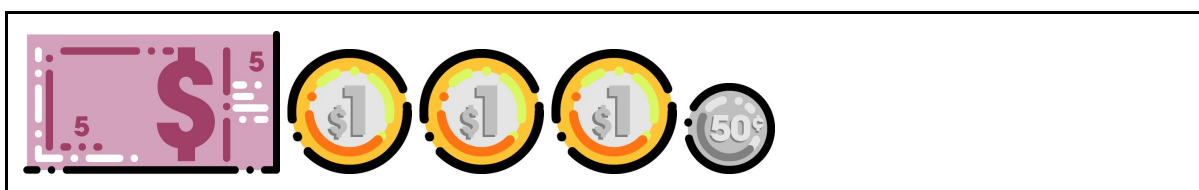
1. DESCUBRA QUAL DOS VALORES ESTÁ FALTANDO EM CADA QUADRO PARA COMPLETAR R\$ 10,00



() R\$ 5,00

() R\$ 4,00

() R\$ 2,00

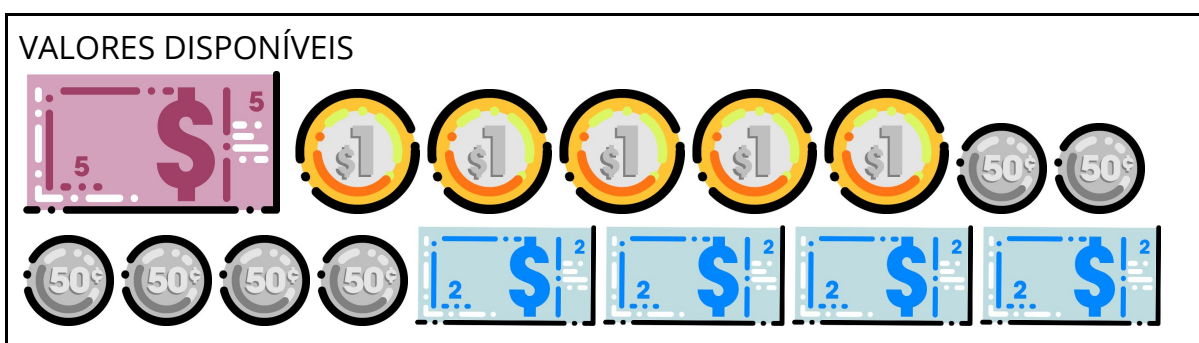


() R\$ 1,00

() R\$ 2,00

() R\$ 1,50

2. DANIEL FOI AO MERCADO COM R\$ 15,00. SUA COMPRA CUSTOU R\$ 9,00. COM OS VALORES DO QUADRO, REPRESENTE QUANTO DANIEL RECEBEU DE TROCO





TROCO DE DANIEL


Atividades complementares MAT1_16GRM07

3. DESAFIO

OBSERVE OS PRODUTOS E SEUS VALORES. ORGANIZE-OS FORMANDO UM GRUPO. ORGANIZE DO MENOR PARA O MAIOR VALOR. UTILIZE O DINHEIRINHO DO SEU ENVELOPE PARA AJUDAR A CONTAR OS VALORES. RECORTE E COLE, SE NECESSÁRIO

PRODUTOS DISPONÍVEIS

 R\$ 1,80	 R\$ 3,00	 R\$ 4,00	 R\$ 5,00	 R\$ 2,50
 R\$ 3,50	 R\$ 2,00	 R\$ 7,00	 R\$ 1,00	



Atividades complementares MAT1_16GRM07

--