


### ATIVIDADE COMPLEMENTAR 1

OBSERVE A IMAGEM ABAIXO:

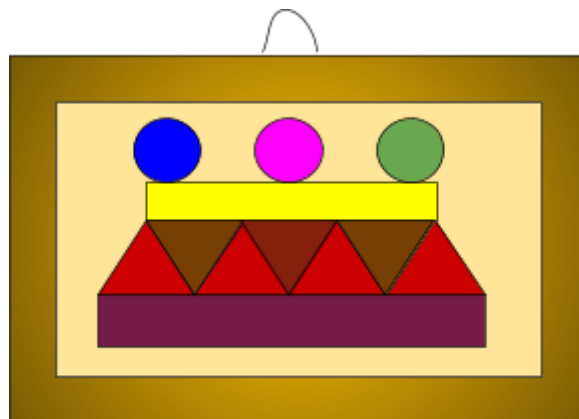


- A IMAGEM ACIMA FOI FORMADA POR FIGURAS PLANAS OU NÃO PLANAS?
- 

- QUE FIGURAS PLANAS PODEMOS ENCONTRAR NA IMAGEM ACIMA?
- 

### ATIVIDADE COMPLEMENTAR 2

A GEOMETRIA NOS INSPIRA A CRIAR “OBRAS DE ARTE,” NÃO É MESMO? MARINA FICOU TÃO ENTUSIASMADA COM SUA AULA SOBRE FIGURA PLANAS QUE RESOLVEU PINTAR UM QUADRO USANDO AS FORMAS QUE APRENDEU.

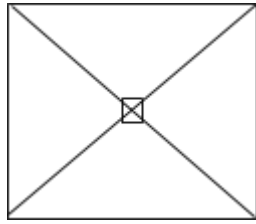


- QUAIS AS FIGURAS PLANAS APARECEM NO QUADRO DE MARINA?
- 


- CONTE QUANTAS VEZES CADA FIGURA APARECE E ESCREVA.
-

**DESAFIO:**

OBSERVE AS VISTAS DE UMA FIGURA NÃO PLANA.

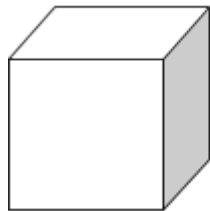


VISTA DE CIMA PARA BAIXO



VISTA DEBAIXO PARA CIMA

AS IMAGENS ACIMA REPRESENTAM AS VISTAS DE QUAL FIGURA NÃO PLANA? MARQUE UM X.



---