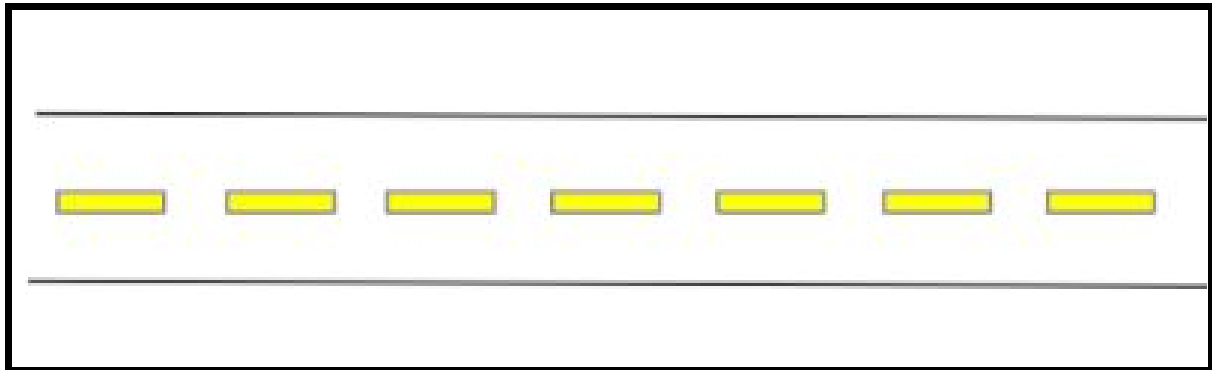


## Resolução das Atividades Complementares - MAT2\_14GEO04

- 1) DÊ UM NOME PARA ESTA RUA E ESCOLHA QUATRO ELEMENTOS PARA FAZER A PLANTA BAIXA:

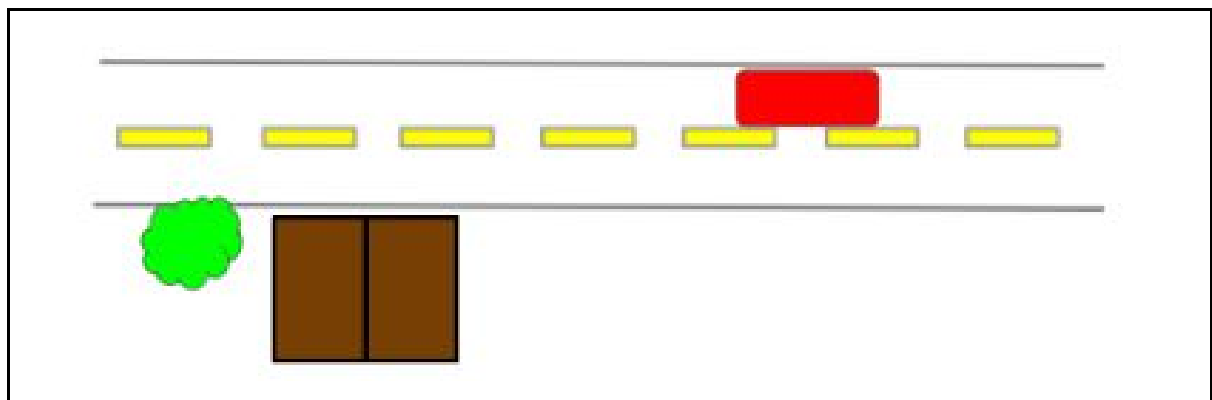


MINHA CASA	ÔNIBUS	PEDRINHAS DE BRILHANTE
GANGORRA	JARDIM	ÁRVORE
LAGO	ESCOLA	BANCO

### **Possível resposta:**

Desenho de: **árvore, casa e ônibus.**

### **RUA DAS BORBOLETAS**



(As respostas podem variar, dependendo da escolha de cada aluno. Para esta atividade, é esperado que representem nesta rua os elementos com vista superior e distribuídos de forma adequada.)

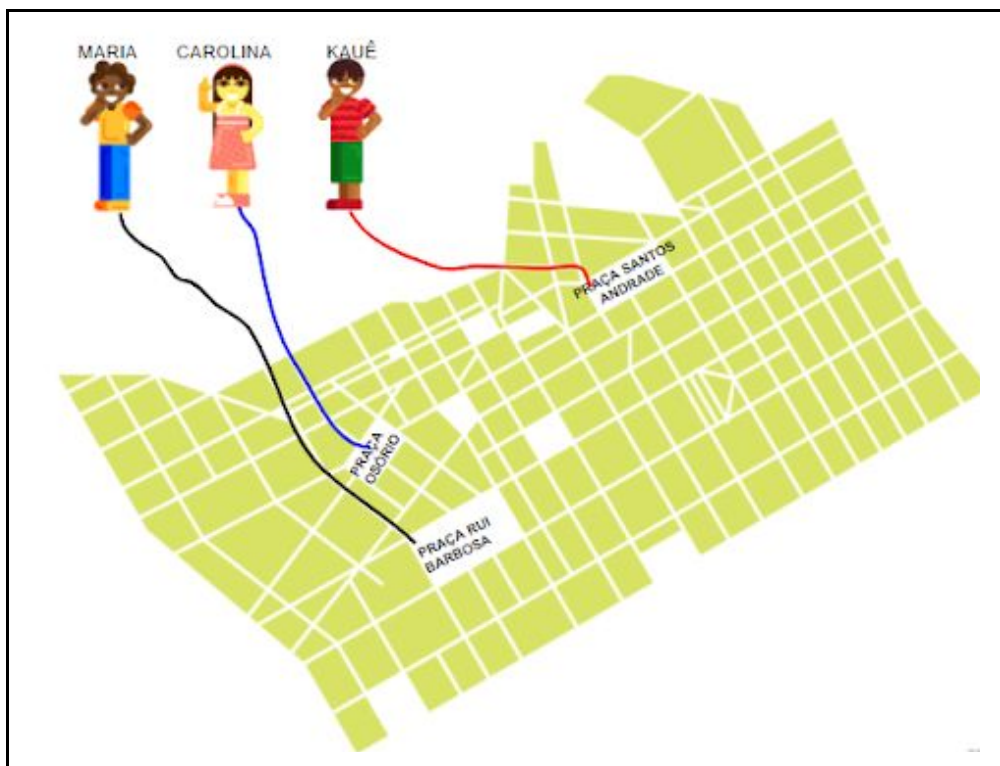
2) MARIA, CAROLINA E KAUÊ QUEREM ENCONTRAR SEUS AMIGOS NAS PRAÇAS DE CURITIBA, NO ESTADO DO PARANÁ.

- MARIA VAI ATÉ A PRAÇA RUI BARBOSA.
- CAROLINA ATÉ A PRAÇA OSÓRIO.
- KAUÊ NA PRAÇA SANTOS ANDRADE.


CONTINUE OS TRAJETOS, FAZENDO O CAMINHO MAIS CURTO PARA QUE ELES POSSAM CHEGAR LOGO.



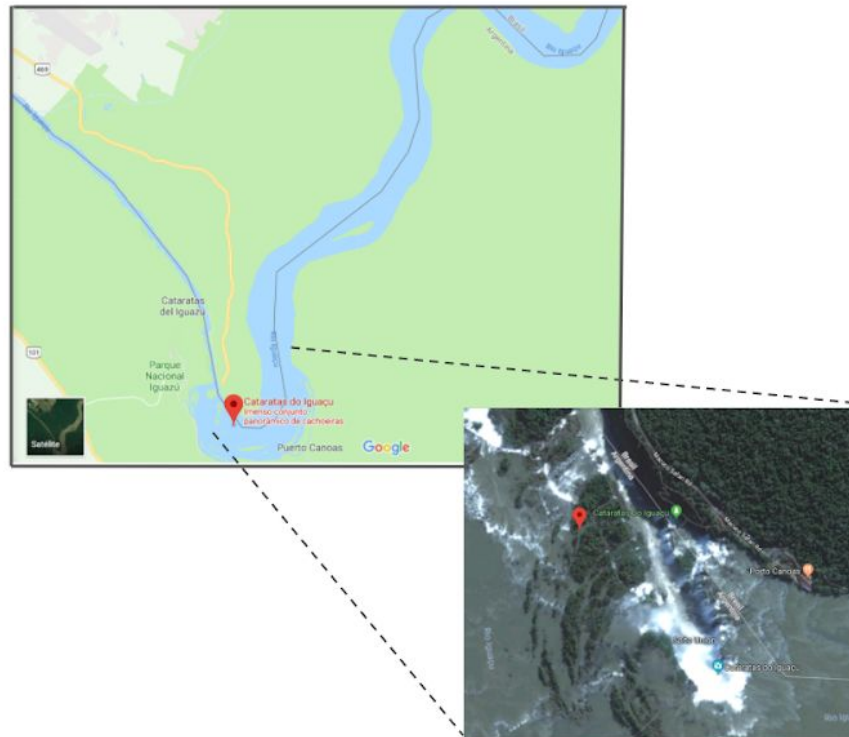
**Resposta:**



**DESAFIO:**



OS AMIGOS PAULO E RAFAEL CONHECERAM O **ESTADO DO PARANÁ** VIAJANDO NUM BALÃO E FICARAM ENCANTADOS COM A VISTA DAS **CATARATAS DO IGUAÇU**.



TAMBÉM VIRAM A FAMOSA **ÓPERA DE ARAME** EM CURITIBA E CONSEGUIRAM POUSAR LÁ PERTO PORQUE JÁ ESTAVAM COM FOME.

PINTE NO MAPA ABAIXO O CAMINHO QUE PAULO E RAFAEL PERCORREM DA **ÓPERA DE ARAME** ATÉ CHEGAR NA **PANIFICADORA E CONFEITARIA ÓPERA**.

**Resposta:**

