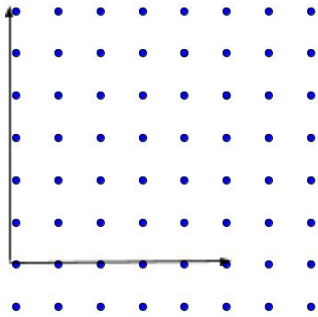
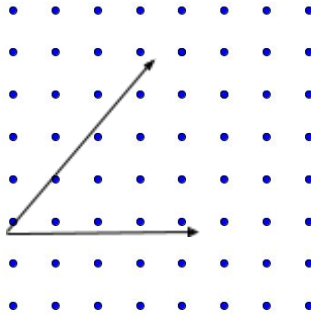
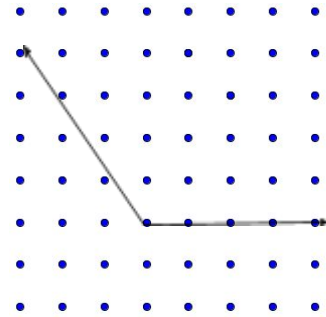


Resolução do Raio X - MAT4_18GEO 01

Desenhe nos geoplanos abaixo, os ângulos:

RETO**AGUDO****OBTUSO**

Os alunos podem apresentar resoluções com medidas diferentes, que devem ser consideradas, desde que estejam de acordo com a característica de cada tipo de ângulo.