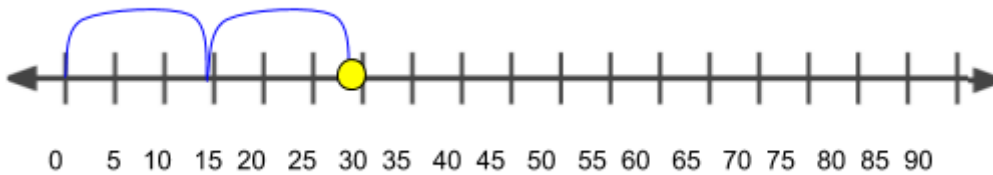
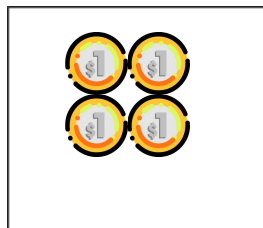



ATIVIDADES COMPLEMENTARES - MAT3_11ALG02

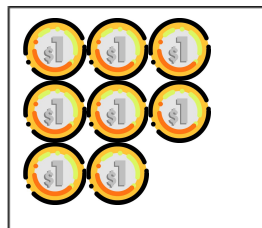
1) UM GATINHO ESTÁ NO PONTO MARCADO NA RETA ABAIXO. VEJA OS PULOS QUE O GATO DEU PARA CHEGAR ONDE ESTÁ E MARQUE EM QUAL PONTO ELE ESTARÁ SE DER MAIS 3 PULOS IGUAIS. REGISTRE SUA ESTRATÉGIA PARA CHEGAR A ESSE RESULTADO:



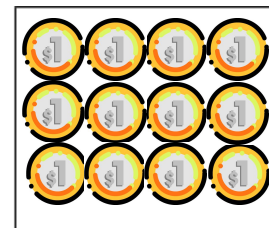
2) BIANCA ESTÁ FAZENDO ECONOMIAS PARA COMPRAR UM BRINQUEDO QUE CUSTA 32 REAIS. ELA FEZ UM COMBINADO COM SEU PAI E, TODOS OS DIAS, IRÁ GUARDAR MOEDAS EM SEU COFRINHO. VEJA QUANTO BIANCA DECIDIU GUARDAR A CADA DIA E CALCULE QUANTOS DIAS ELA LEVARÁ PARA CONSEGUIR O VALOR QUE PRECISA PARA COMPRAR O BRINQUEDO.



1º DIA

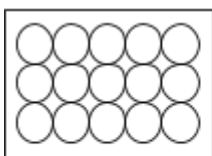


2º DIA

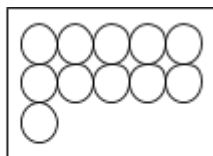


3º DIA

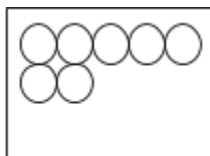
[DESAFIO] PEDRO FAZIA COLEÇÃO DE BOLINHAS DE GUDE. RESOLVEU, NO ENTANTO, QUE TODOS OS DIAS DOARÁ ALGUMAS AOS SEUS AMIGOS, DIMINUINDO, ASSIM, SUA COLEÇÃO. VEJA:




2ª feira



3ª feira



4ª feira



5ª feira



6ª feira

NA QUINTA-FEIRA, PEDRO GANHOU 6 BOLINHAS NOVAS DE SUA AVÓ.
SEGUINDO O PADRÃO DE QUANTIDADES DE BOLINHAS QUE PEDRO ESTÁ
DOANDO AOS SEUS AMIGOS, DESENHE A QUANTIDADE DE BOLINHAS QUE
PEDRO TERÁ NA QUINTA E NA SEXTA-FEIRA.