
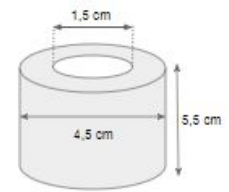


Uma fôrma de gelo produz gelo com a forma de um cilindro vazado, com as medidas indicadas na figura.

a) Qual a quantidade de água, em mililitros, necessária para encher completamente essa fôrma de gelo?

b) Qual será os custos de fabricação, caso eu queira vender sacos com capacidade para 60 cubos de gelo, desprezando outros gastos e levando em consideração apenas o que o garrafão de água mineral custa R\$ 5,50 em média e o saco a ser usado custa R\$ 0,12?

c) Qual o valor de venda se meu lucro for de 60% do preço de custo se eu desprezar outros gastos (energia, formas, etc)?

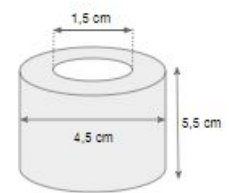


Uma fôrma de gelo produz gelo com a forma de um cilindro vazado, com as medidas indicadas na figura.

a) Qual a quantidade de água, em mililitros, necessária para encher completamente essa fôrma de gelo?

b) Qual será os custos de fabricação, caso eu queira vender sacos com capacidade para 60 cubos de gelo, desprezando outros gastos e levando em consideração apenas o que o garrafão de água mineral custa R\$ 5,50 em média e o saco a ser usado custa R\$ 0,12?

c) Qual o valor de venda se meu lucro for de 60% do preço de custo se eu desprezar outros gastos (energia, formas, etc)?

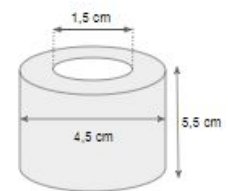


Uma fôrma de gelo produz gelo com a forma de um cilindro vazado, com as medidas indicadas na figura.

a) Qual a quantidade de água, em mililitros, necessária para encher completamente essa fôrma de gelo?

b) Qual será os custos de fabricação, caso eu queira vender sacos com capacidade para 60 cubos de gelo, desprezando outros gastos e levando em consideração apenas o que o garrafão de água mineral custa R\$ 5,50 em média e o saco a ser usado custa R\$ 0,12?

c) Qual o valor de venda se meu lucro for de 60% do preço de custo se eu desprezar outros gastos (energia, formas, etc)?


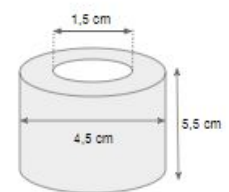


Uma fôrma de gelo produz gelo com a forma de um cilindro vazado, com as medidas indicadas na figura.

a) Qual a quantidade de água, em mililitros, necessária para encher completamente essa fôrma de gelo?

b) Qual será os custos de fabricação, caso eu queira vender sacos com capacidade para 60 cubos de gelo, desprezando outros gastos e levando em consideração apenas o que o garrafão de água mineral custa R\$ 5,50 em média e o saco a ser usado custa R\$ 0,12?

c) Qual o valor de venda se meu lucro for de 60% do preço de custo



se eu desprezar outros gastos (energia, formas, etc)?

