




## Resolução atividade complementar 1

1) SEGUINDO A TABELA , DESENHE E OU INDIQUE A ESCOLHA DE CADA UM. VEJA O EXEMPLO A ADRIANA FOI UMA DAS QUE ESCOLHEU BOLA :

ESCOLHA DOS BRINQUEDOS PREFERIDOS 2º ANO	
BRINQUEDOS	QUANTIDADE DE CRIANÇAS
	4
	4
	3



É importante que os alunos compreendam que o que interessa na tabela e no registro gráfico de seus dados no desenho são os dados numéricos e a quantificação no registro dos brinquedos, assim os desenhos podem ser os mais variados, porém devem conter as quantidade de brinquedo equivalente a tabela.

## Resolução atividade complementar 2

SABENDO QUE O GRUPO DE AMIGOS DE 20 PESSOAS PARTICIPOU DE UMA PESQUISA PARA SABER A PREFERÊNCIA ENTRE SABORES DE SORVETES. O QUERIDINHO DA GALERA FOI O CHOCOLATE. DESCUBRA A TABELA CORRETA.



A)

SABORES	QUANTIDADE DE PESSOAS
CHOCOLATE	10
MORANGO	3
BAUNILHA	4
COCO	2
OUTROS	1

B)

SABORES	QUANTIDADE DE PESSOAS
CHOCOLATE	5
MORANGO	2
BAUNILHA	4
COCO	2
OUTROS	1





Nessa atividade uma das maneiras dos alunos concluírem que a tabela A é a correta é localizar o número maior, levando em consideração o dados que o chocolate é o queridinho da galera. Ou a informação de que 20 pessoas participaram da pesquisa, na tabela B o número é menor de pessoas que participaram.

EM UMA TABELA ANA ORGANIZOU TODOS OS MATERIAIS DA SALA DE AULA. COMPLETE O QUE AINDA FALTA:

MATERIAL	QUANTIDADE
LÁPIS	3
BORRACHA	5
CADERNOS	4



Nessa atividade as crianças devem buscar no desenho apoio para preencher as linhas da tabela. A primeira linha que o campo materiais está vazio, o número está preenchido assim devem localizar o único material que temos 3. Os outros desafio está em ler na tabela e realizar a contagem da categoria correta preenchendo na linha correta.