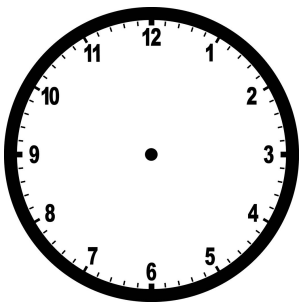


ANA PRECISA SE ORGANIZAR PARA O DIA DA APRESENTAÇÃO DO BALÉ. SERÁ UMA MANHÃ BEM INTENSA, COM OS HORÁRIOS APERTADOS. OLHA SÓ:

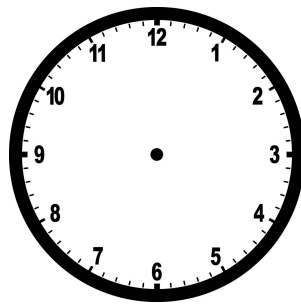
- 7 HORAS LEVANTAR
- TOMAR O CAFÉ DA MANHÃ E ESCOVAR OS DENTES EM 30 MINUTOS
- UMA HORA PARA ARRUMAR O CABELO NO SALÃO
- ENSAIO PARA MARCAR AS POSIÇÕES: 30 MINUTOS
- 30 MINUTOS PARA DESCANSO E MAIS 30 PARA TROCA DE ROUPA
- EM SEGUIDA, GRANDE MOMENTO DA APRESENTAÇÃO

#### ATIVIDADE 1

A) MARQUE NOS RELÓGIOS O INÍCIO E O FIM DA HORA DO DESCANSO:



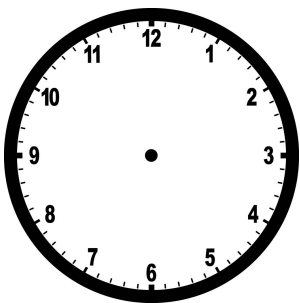
INÍCIO



FIM


B) QUE HORAS SERÁ A APRESENTAÇÃO DE ANA?

C) SE ANA ACRESCENTASSE MAIS 10 MINUTOS PARA O ENSAIO, PARA A TROCA DE ROUPAS E PARA O DESCANSO, QUAL SERIA O HORÁRIO DA APRESENTAÇÃO? MARQUE NO RELÓGIO:



## ATIVIDADE 2

ROBERTA FOI FAZER UM EXAME, E FOI SOLICITADO QUE TOMASSE UM COPO DE ÁGUA A CADA MEIA HORA, TOTALIZANDO 4 COPOS. MARQUE NOS RELÓGIOS ABAIXO O HORÁRIO QUE ROBERTA TEM QUE BEBER ÁGUA, INICIANDO ÀS 9 HORAS E 30 MINUTOS:



QUE HORAS FOI O SEGUNDO E O ÚLTIMO COPO DE ÁGUA QUE ROBERTA TOMOU?

SE AO INVÉS DE MEIA HORA O INTERVALO FOSSE DE 1 HORA, QUE HORAS SERIA O SEGUNDO COPO DE ÁGUA?

[DESAFIO]

O RELÓGIO DE MARIANA MOLHOU E PAROU DE FUNCIONAR COM O PONTEIRO PEQUENO APONTADO PARA O NÚMERO 5 E O GRANDE PARA O NÚMERO 6. DEPOIS DE DUAS HORAS E MEIA ELE VOLTOU A FUNCIONAR, SÓ QUE MARIANA TINHA ENTÃO QUE ACERTAR A HORA. MARQUE NO RELÓGIO ABAIXO O HORÁRIO QUE FICOU NO RELÓGIO DE MARIANA DEPOIS QUE ELA ACERTOU.

