

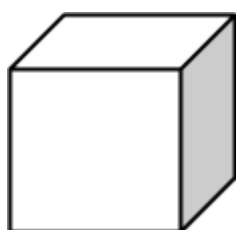




**RESOLUÇÃO DA ATIVIDADE RAIOS X - MAT1\_10GEO04**

MARISA PRECISA CONSTRUIR DUAS CAIXAS, UMA EM FORMA DE CUBO PARA GUARDAR UM ABAJUR E A OUTRA EM FORMA DE BLOCO RETANGULAR PARA GUARDAR SEU TECLADO.

PINTE DE AZUL AS FACES QUE ELA PRECISARÁ PARA MONTAR O CUBO E DE VERMELHO, AS FACES QUE ELA UTILIZARÁ PARA MONTAR O BLOCO RETANGULAR:





A ideia é que os alunos compreendam que são necessários os seis quadrados iguais para se formar um cubo e os seis retângulos com diferentes pares para formar um bloco retangular.