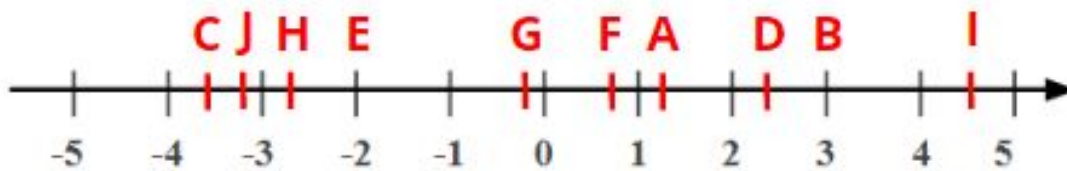
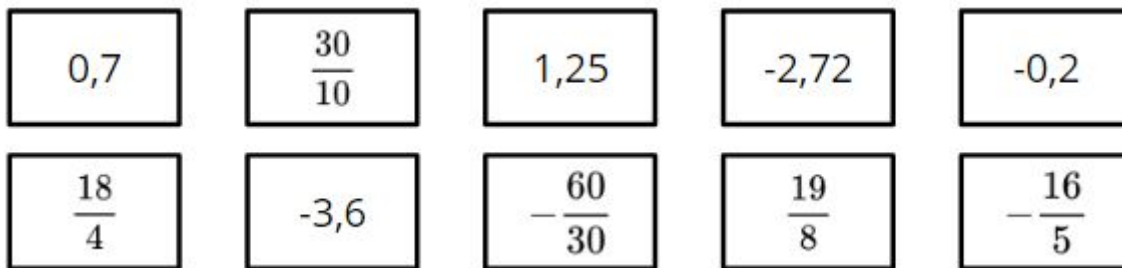
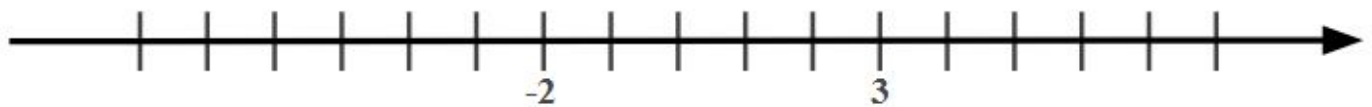
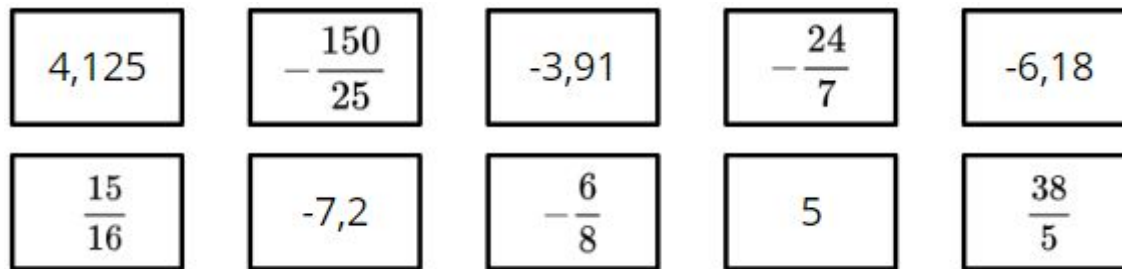


Atividade complementar - MAT7_07NUM05

1) Relacione cada um dos números abaixo a um letra da reta numerada:

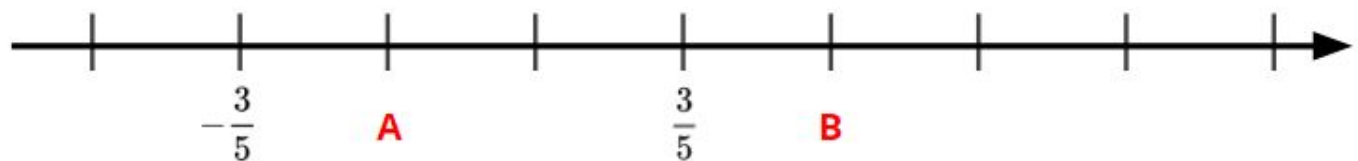


2) Represente, por letras ou flechas, os números racionais abaixo na reta numerada:



Desafio

A reta numerada abaixo está graduada em divisões de igual tamanho. Quais números que correspondem às letras A e B?



a) 0 e $\frac{6}{5}$, respectivamente.

c) $-\frac{2}{5}$ e $\frac{4}{5}$, respectivamente.

b) $-\frac{1}{5}$ e 1 , respectivamente.

d) $-\frac{4}{5}$ e $\frac{4}{5}$, respectivamente.