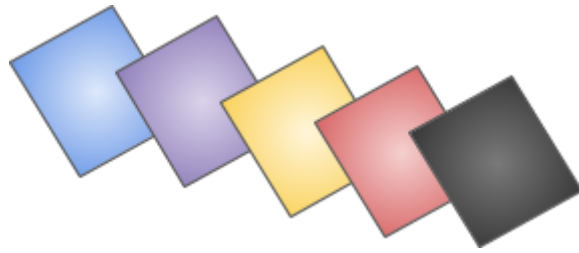
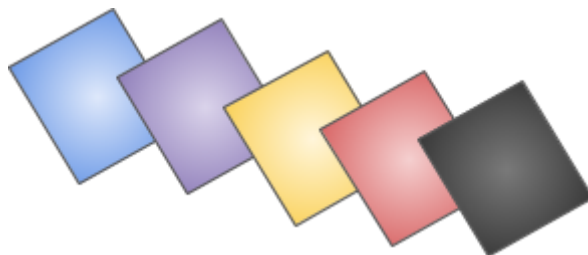


A professora do 5º ano distribuiu pedaços de cartolina para que os alunos construíssem um painel.



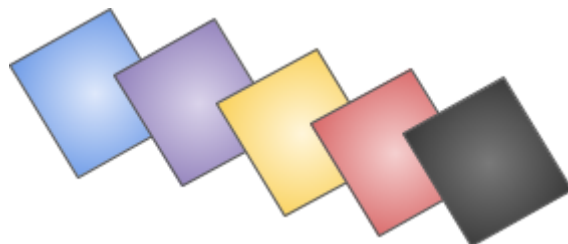
Cada pedaço corresponde a $\frac{1}{5}$ da cartolina. Se a professora entregou 25 pedaços, quantas cartolinas ela utilizou?

A professora do 5º ano distribuiu pedaços de cartolina para que os alunos construíssem um painel.



Cada pedaço corresponde a $\frac{1}{5}$ da cartolina. Se a professora entregou 25 pedaços, quantas cartolinas ela utilizou?

A professora do 5º ano distribuiu pedaços de cartolina para que os alunos construíssem um painel.



Cada pedaço corresponde a da cartolina. Se a professora entregou 25 pedaços, quantas cartolinas ela utilizou?