

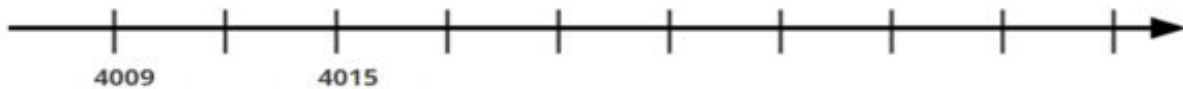
ATIVIDADES COMPLEMENTARES _ MAT3_03NUM01

1-) Cibele pensou em um número. Complete a reta numerada e descubra em que número Cibele pensou por meio das dicas:

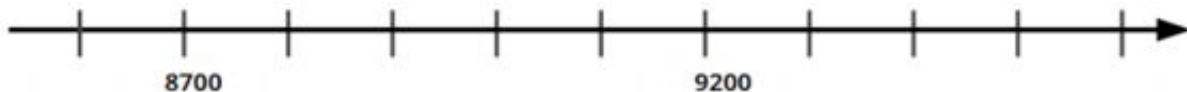
a-) A dezena está representada pelo algarismo 2;

b-) Tem 6 unidades a menos que 4030;

c-) É um número par.

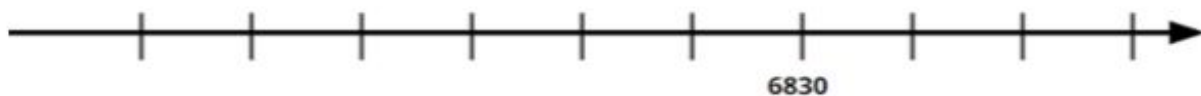


2-) Ronaldo está participando do Desafio da Matemática na sua escola. Uma das etapas era completar a reta numerada. Ajude-o a completá-la e ganhar o desafio.



DESAFIO

3-) A professora de Leonardo entregou a ele fichas com números. Ele precisa organizá-los na reta. Ajude-o, lembrando que ele não utilizará todos os números.



6790	6890	6870	6755
6845	6800	6835	6710
6810	6770	6820	6750
6775	6805	6825	6900
6600	6855	6815	6840
6715	6850	6775	6730