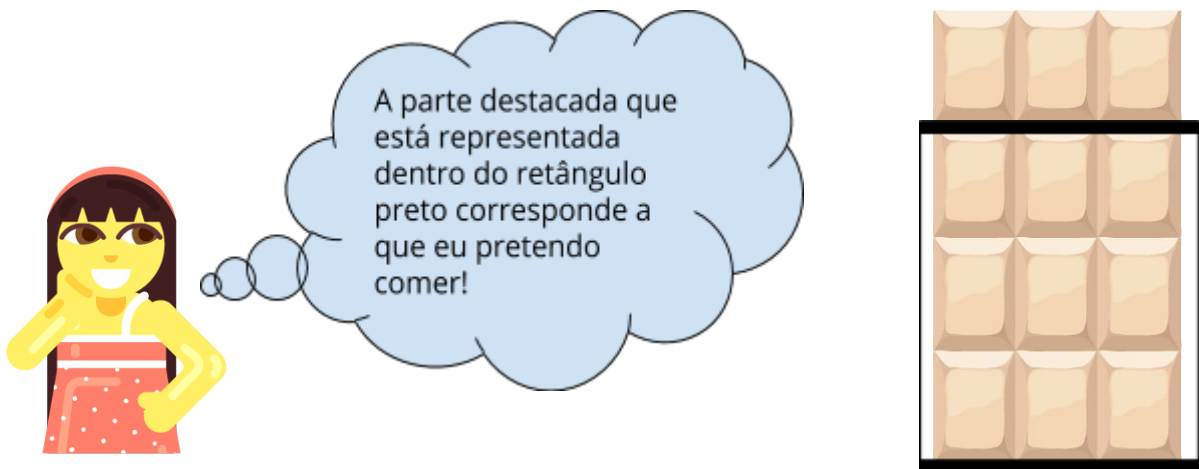


Atividades Complementares_MAT5_05NUM10


1. Carolina ganhou uma barra de chocolate igual à apresentada na figura abaixo e pretende comer nove pedacinhos. Represente a quantidade de pedacinhos que Carolina pretende comer com uma fração e um número decimal?




A parte destacada que está representada dentro do retângulo preto corresponde a que eu pretendo comer!

The image shows a girl with a thought bubble and a chocolate bar divided into a 3x3 grid. A black rectangle highlights the bottom row of the chocolate bar.

2.




Ganhei duas caixinhas de rosquinhas como essas aqui. Vou levar sete rosquinhas para a escola. Como posso representar as rosquinhas que eu vou levar para a escola em relação à quantidade que vem em cada caixinha?

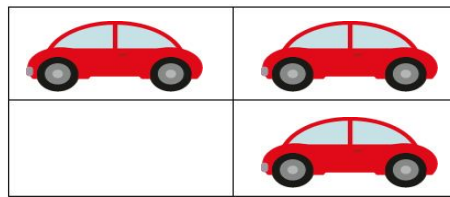



Desafio



Relacione os desenhos às suas representações decimais e fracionárias.



1,25



1,75



0,75