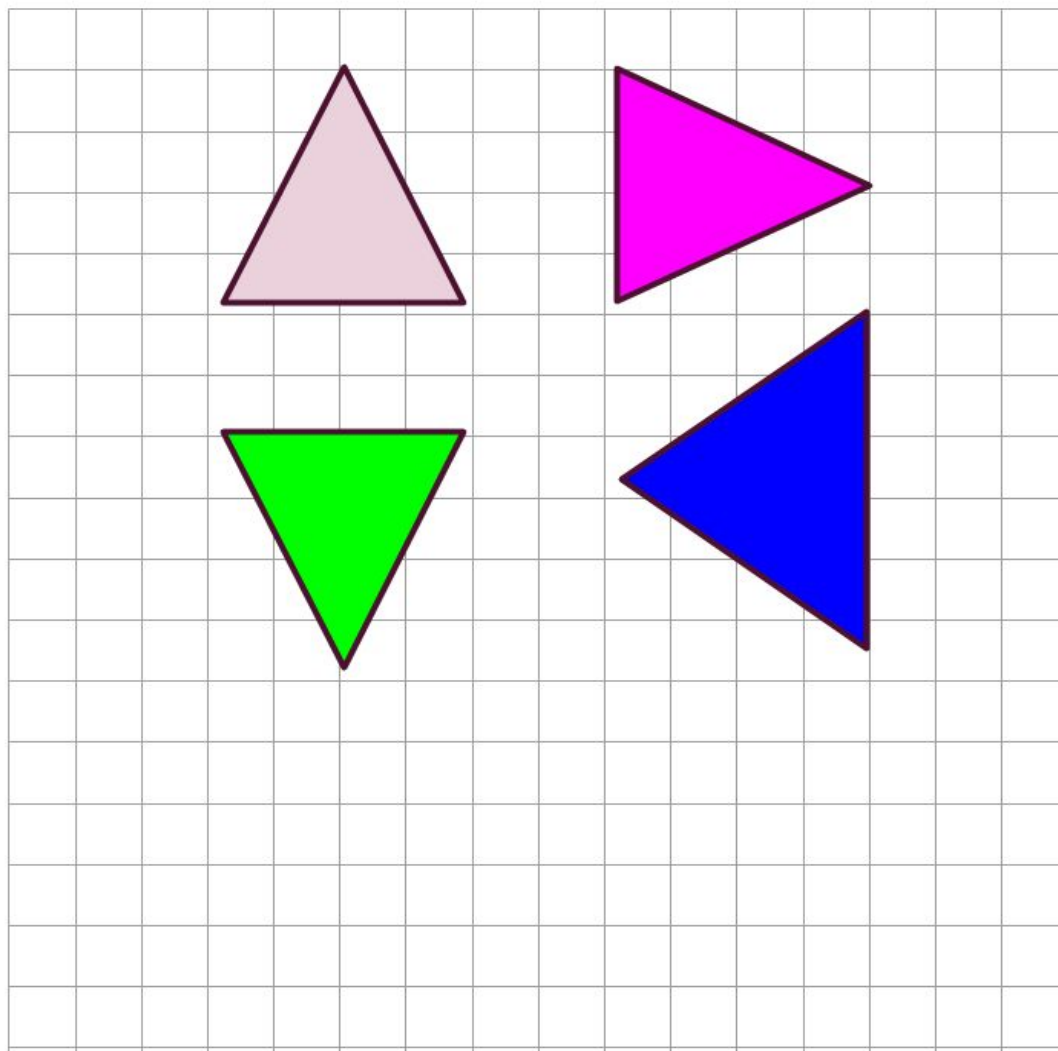


### Atividades Complementares - MAT3\_17GEO06

- 1) VOCÊ SABIA QUE O TANGRAM É FORMADO POR 7 PEÇAS COM FORMAS GEOMÉTRICAS, RESULTANTES DA DECOMPOSIÇÃO DE UM QUADRADO? ENTÃO RECORTE AS PEÇAS DO TANGRAM E DESCUBRA QUAIS DAS SUAS FIGURAS SÃO CONGRUENTES.

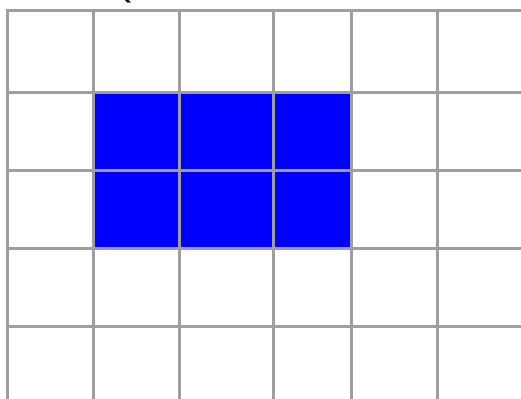


2) OBSERVE OS TRIÂNGULOS REPRESENTADOS NA MALHA QUADRICULADA E DESCUBRA AQUELE QUE NÃO É CONGRUENTE. JUSTIFIQUE SUA RESPOSTA.

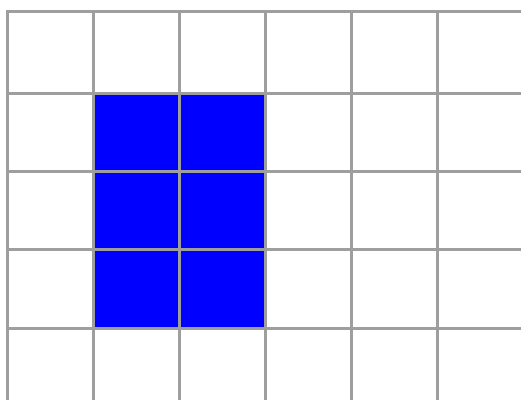


3) UMA PROFESSORA PEDIU AOS ALUNOS QUE REPRESENTASSEM RETÂNGULOS NA MALHA QUADRICULADA PINTANDO NA COR AZUL 6 QUADRADINHOS. VEJA COMO TRÊS ALUNOS FIZERAM:

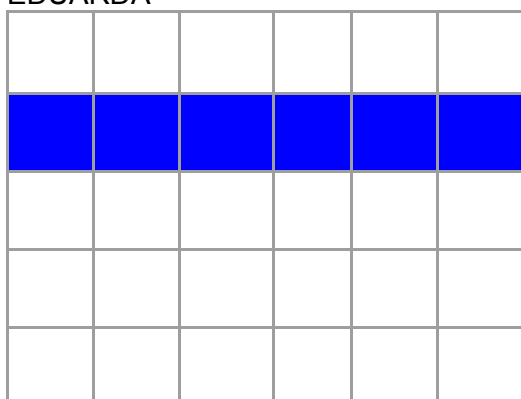
HENRIQUE



GABRIEL



EDUARDA



SE RECORTÁSSEMOS OS RETÂNGULOS E MISTURÁSSEMOS OS TRÊS, SERIA POSSÍVEL SABER QUAL FOI FEITO POR HENRIQUE, POR GABRIEL OU PELA EDUARDA? JUSTIFIQUE SUA RESPOSTA.

---

---

---

