

## Resolução da atividade principal - MAT5\_09NUM01

Uma loja fez o seguinte anúncio:








**PROMOÇÃO**  
Camiseta de \$ 25,00  
por \$ 18,15



Considerando as cédulas e moedas abaixo, indique quais e quantas delas são necessárias para comprar três camisetas pelo valor promocional. Utilize a menor quantidade possível e de forma que não haja troco.

**Resposta:**

**3 x 18,15 = 54,45**

	<input type="text" value="2"/>		<input type="text"/>		<input type="text"/>		<input type="text"/>
	<input type="text"/>		<input type="text" value="1"/>		<input type="text" value="2"/>		<input type="text"/>
	<input type="text"/>		<input type="text"/>		<input type="text" value="1"/>		