



A professora de Lucas pediu que os alunos encontrassem o perímetro da estrela ao lado, porém ela não definiu na figura a medida de seus lados.

- Como Lucas poderá encontrar as medidas dos lados dessa figura?
 - Qual é o perímetro desta estrela?
-




A professora de Lucas pediu que os alunos encontrassem o perímetro da estrela ao lado, porém ela não definiu na figura a medida de seus lados.

- Como Lucas poderá encontrar as medidas dos lados dessa figura?
 - Qual é o perímetro desta estrela?
-



A professora de Lucas pediu que os alunos encontrassem o perímetro da estrela ao lado, porém ela não definiu na figura a medida de seus lados.

- Como Lucas poderá encontrar as medidas dos lados dessa figura?
 - Qual é o perímetro desta estrela?
-



A professora de Lucas pediu que os alunos encontrassem o perímetro da estrela ao lado, porém ela não definiu na figura a medida de seus lados.

- Como Lucas poderá encontrar as medidas dos lados dessa figura?
 - Qual é o perímetro desta estrela?
-

