




Resolução da atividade principal - MAT1_13RDP04




ME CHAMO ANA E GOSTO DE FAZER RECEITAS COM FRUTAS. QUERO FAZER UMA SALADA DE FRUTAS. VOCÊ PODE ME AJUDAR A DESCOBRIR QUANTOS REAIS VOU PRECISAR?

CADA FRUTA TEM UM VALOR

 = 1 REAL  = 2 REAIS

 = 4 REAIS

PARA FAZER A SALADA VOU USAR AS QUANTIDADES ABAIXO, QUANTO VOU GASTAR?

 +  +  =



Resolução:

Nessa proposta de atividade as crianças devem relacionar as figuras com valores numéricos.

Se 1 maçã = 2 reais então 1 maçã e meia = 2 reais + 1 real = 3 reais.

Se 1 cereja = 1 real então 2 cerejas = 2 reais

Se 1 pêra = 4 reais então 1 pêra e meia = 4 reais + 2 reais = 6 reais.

Então gastarei 11 reais para fazer a salada de frutas.