


1. COMPREI DUAS PIPAS COLORIDAS E PAGUEI COM ESSAS CÉDULAS E MOEDAS. QUANTO PAGUEI PELAS DUAS PIPAS?


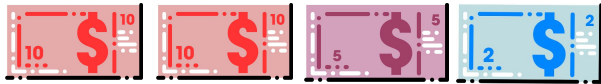



$$10 + 5 + 2 + 2 + 3 = 22$$


Paguei vinte e dois reais.

Obs: podem aparecer diferentes formas de resolução.

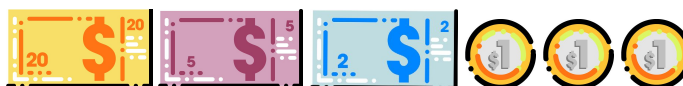
2. QUAIS CÉDULAS E MOEDAS VOCÊ UTILIZARIA PARA PAGAR UMA BOLA QUE CUSTA VINTE E SETE REAIS? REGISTRE COM DESENHO.

 <b>R\$ 27,00</b>	<p>Aqui poderão aparecer diferentes formas de composição do número 27.</p> <p>Exemplos:</p>  <p>ou</p> 
--	---

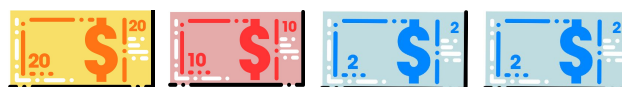
3. DESAFIO: QUANTO SERÁ QUE CUSTOU CADA PRESENTE ABAIXO?



R\$ 39,00



R\$ 30,00



R\$34,00