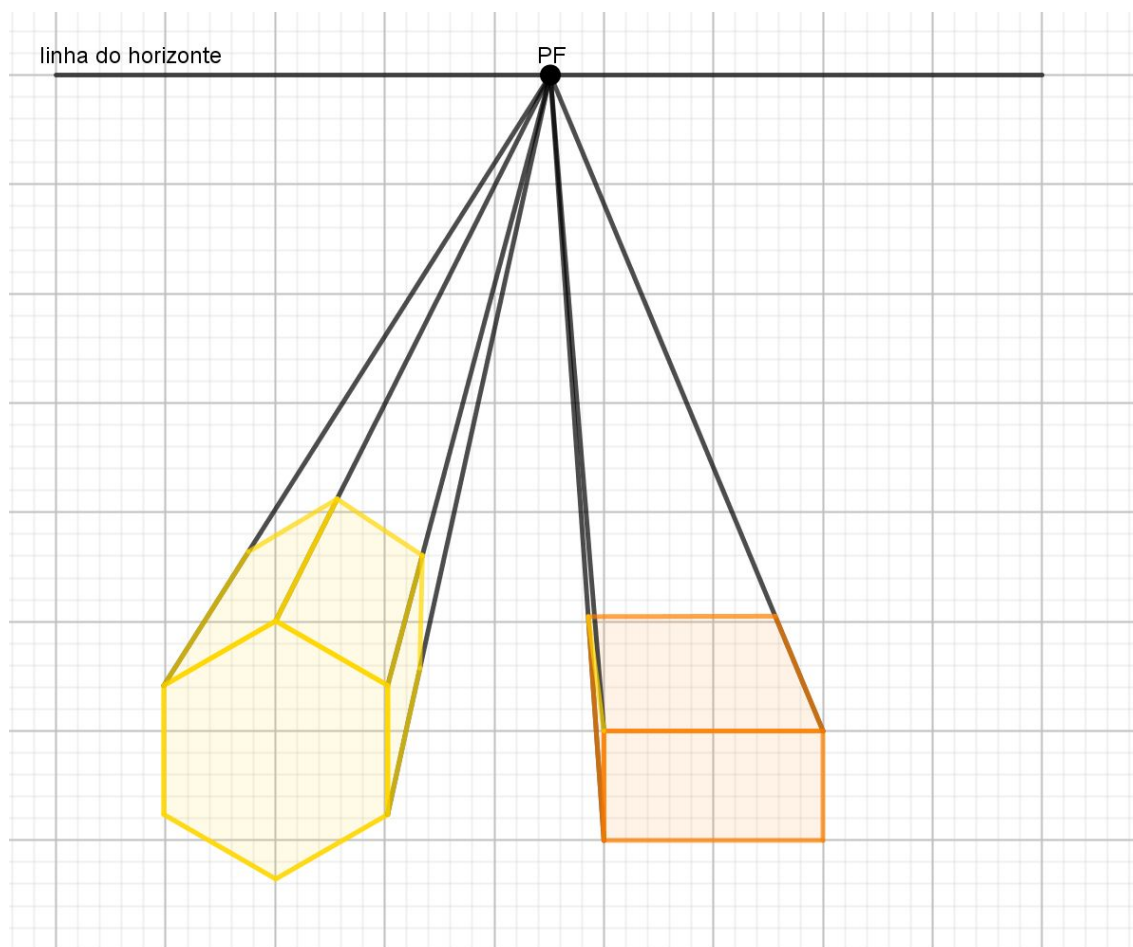
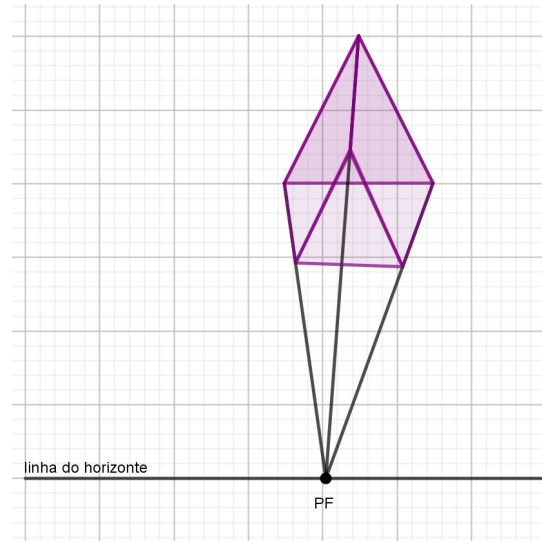
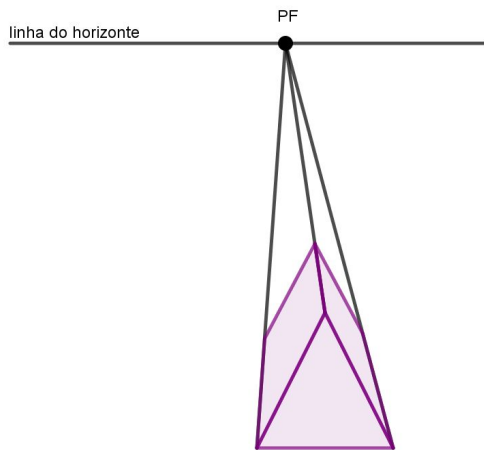


## Resolução Atividade Complementar - MAT9\_17GEO04

- 1) Utilize a ideia de perspectiva e represente dois sólidos geométricos com as faces frontais dadas abaixo, utilizando a linha do horizonte abaixo da imagem e um mesmo ponto de fuga.



- 2) Analise o bloco abaixo representado abaixo da linha do horizonte e reproduza sua representação alterando a posição da linha do horizonte, colocando a imagem acima da linha do horizonte:



- 3) [Desafio] Existem situações em que são usados dois pontos de fuga para a construção de um único sólido geométrico. Analise a imagem abaixo e represente as linhas da perspectiva utilizadas para a construção do sólido geométrico abaixo:



