
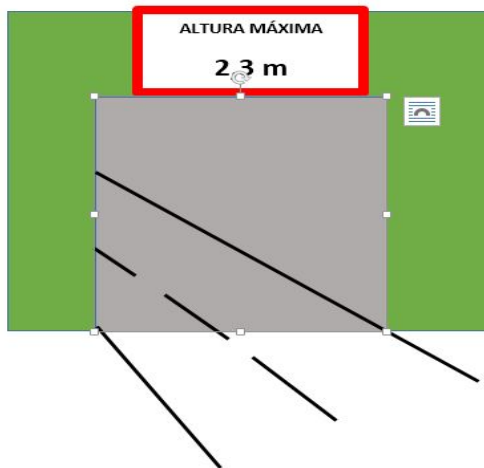



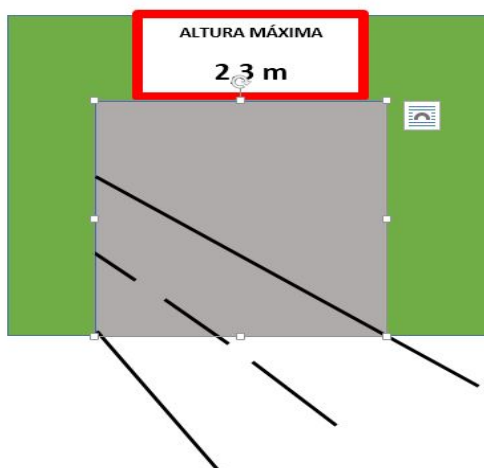
Cláudio quer saber se seu caminhão que tem 2 200 mm de altura consegue passar em uma ponte que tem 2,3 m de altura.



O caminhão passa ou não passa sob essa ponte? Faça cálculos para confirmar sua resposta.

---

Cláudio quer saber se seu caminhão que tem 2 200 mm de altura consegue passar em uma ponte que tem 2,3 m de altura.



O caminhão passa ou não passa sob essa ponte? Faça cálculos para confirmar sua resposta.