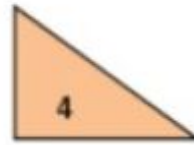
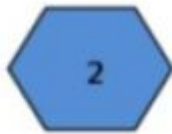


Marque a alternativa que representa os polígonos que possuem ângulos retos:



- A) 1 e 2
- B) 2 e 3
- C) 1 e 4
- D) 2 e 4

Escreva o nome dos polígonos acima, de acordo com o número de lados e indique qual possui ângulos obtusos:

1-

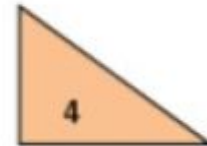

2-

3-

4-

---

Marque a alternativa que representa os polígonos que possuem ângulos retos:



- (A) 1 e 2
- (B) 2 e 3
- (C) 1 e 4
- (D) 2 e 4

Escreva o nome dos polígonos acima, de acordo com o número de lados e indique qual possui ângulos obtusos:

1-

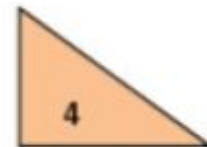

2-

3-

4-

---

Marque a alternativa que representa os polígonos que possuem ângulos retos:



- (C) 1 e 2
- (D) 2 e 3
- (C) 1 e 4
- (D) 2 e 4

Escreva o nome dos polígonos acima, de acordo com o número de lados e indique qual possui ângulos obtusos:

1-

2-

3-

4-