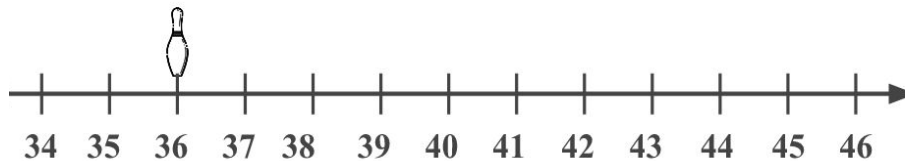
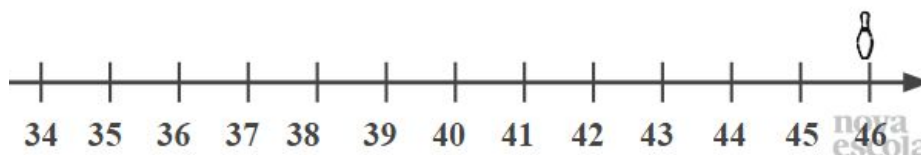


LEMBRE-SE DAS REGRAS DO JOGO “ANDANDO PARA FRENTE, ANDANDO PARA TRÁS” E RESOLVA AS SITUAÇÕES ABAIXO NA RETA NUMERADA.

1) OBSERVE ONDE ESTÁ O MARCADOR DE LARA NA SEGUNDA JOGADA. ELA GANHOU 3 PONTOS NA TERCEIRA JOGADA, 2 PONTOS NA QUARTA JOGADA E 4 PONTOS NA QUINTA JOGADA. EM QUE NÚMERO PAROU O MARCADOR DE LARA NA QUINTA JOGADA?

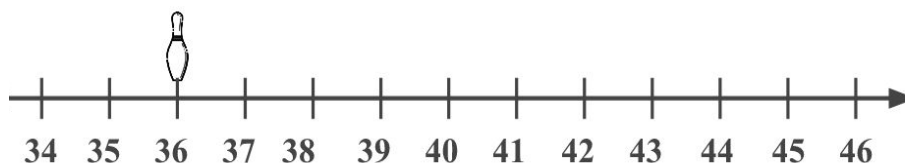


2) OBSERVE ONDE ESTÁ O MARCADOR DE ALINE NA SEGUNDA JOGADA. ELA PERDEU 5 PONTOS NA TERCEIRA JOGADA, 2 PONTOS NA QUARTA JOGADA E 3 PONTOS NA QUINTA JOGADA. EM QUE NÚMERO PAROU O MARCADOR DE LARA NA QUINTA JOGADA?



LEMBRE-SE DAS REGRAS DO JOGO “ANDANDO PARA FRENTE, ANDANDO PARA TRÁS” E RESOLVA AS SITUAÇÕES ABAIXO NA RETA NUMERADA.

1) OBSERVE ONDE ESTÁ O MARCADOR DE LARA NA SEGUNDA JOGADA. ELA GANHOU 3 PONTOS NA TERCEIRA JOGADA, 2 PONTOS NA QUARTA JOGADA E 4 PONTOS NA QUINTA JOGADA. EM QUE NÚMERO PAROU O MARCADOR DE LARA NA QUINTA JOGADA?



2) OBSERVE ONDE ESTÁ O MARCADOR DE ALINE NA SEGUNDA JOGADA. ELA PERDEU 5 PONTOS NA TERCEIRA JOGADA, 2 PONTOS NA QUARTA JOGADA E 3 PONTOS NA QUINTA JOGADA. EM QUE NÚMERO PAROU O MARCADOR DE LARA NA QUINTA JOGADA?

