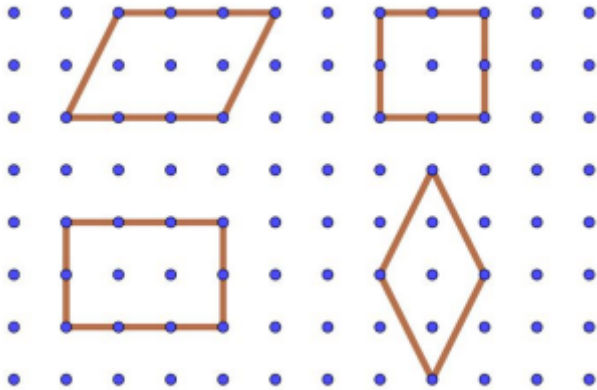


**Resolução da atividade principal \_ MAT4\_19GEO04**

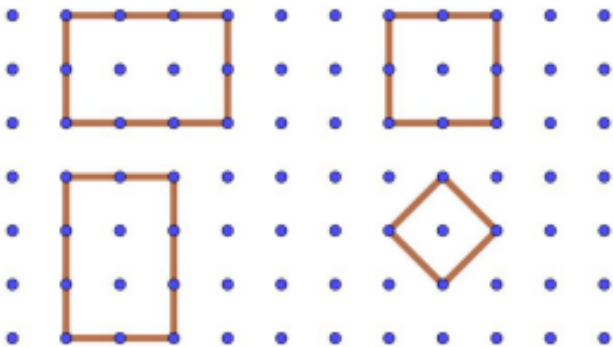
Vamos analisar, separadamente, cada uma das informações das tirinhas:

- **Tenho dois pares de lados paralelos e ângulos opostos de mesma medida.**



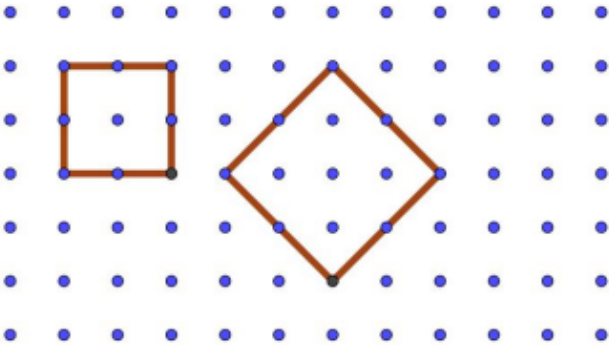
O paralelogramo, o quadrado, o losango e o retângulo atendem a essas características.

- **Tenho dois pares de lados paralelos e quatro ângulos retos.**



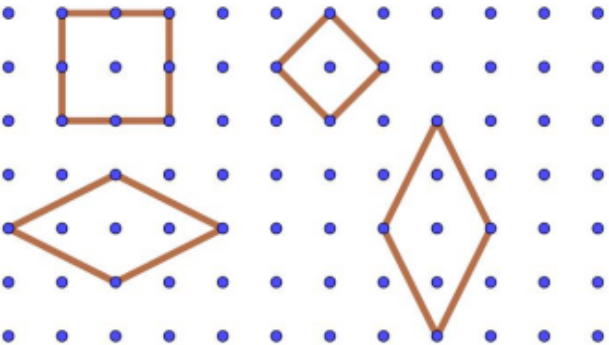
Os quadriláteros que atendem a essas características são o quadrado e o retângulo.

- **Tenho dois pares de lados paralelos. Meus quatro lados têm a mesma medida. Tenho quatro ângulos retos.**



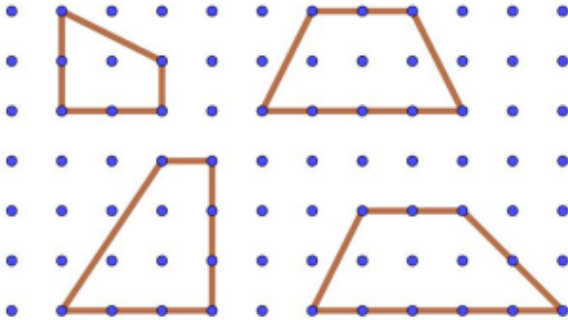
O quadrilátero que atende a essas características é somente o quadrado .

- **Tenho dois pares de lados paralelos. Meus quatro lados têm a mesma medida. Meus ângulos opostos têm a mesma medida.**



Os quadriláteros que atendem a essas características são o quadrado e o losango.

- **Tenho um par de lados paralelos. Posso ter ou não ângulos retos.**



Os quadriláteros que atendem a essas características são os trapézios.