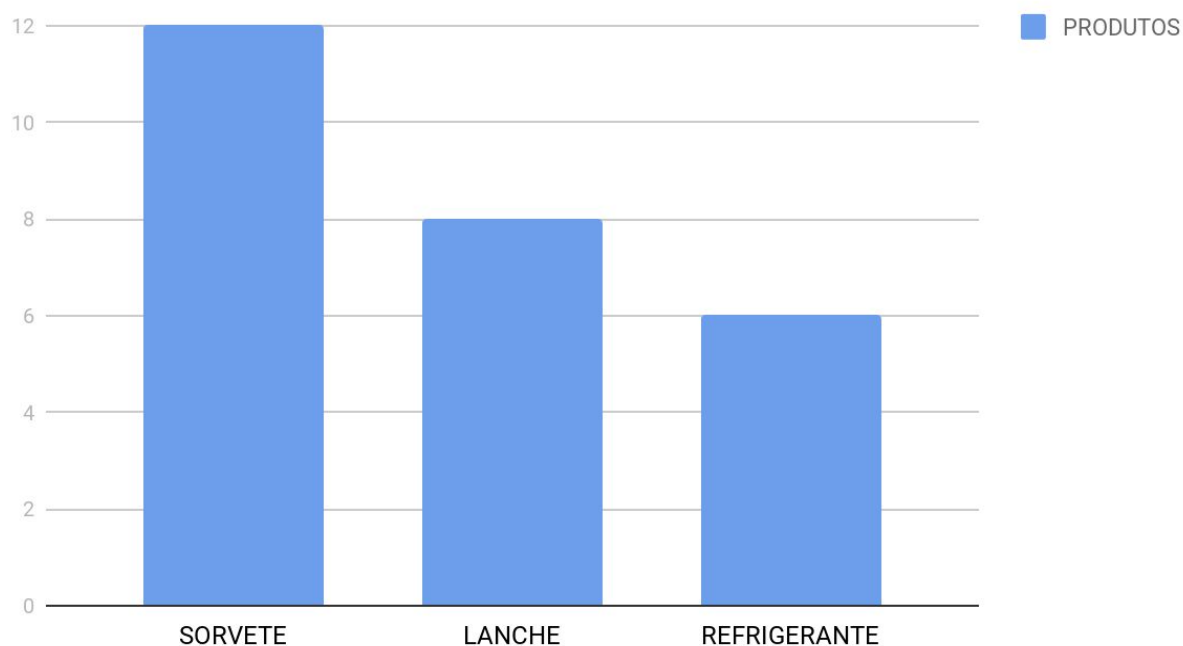



1) PARA PODER ORGANIZAR O ESTOQUE DA CANTINA DA ESCOLA, SEU JOSÉ ORGANIZOU UM GRÁFICO COM A VENDA DIÁRIA DOS PRODUTOS DA CANTINA DA ESCOLA:

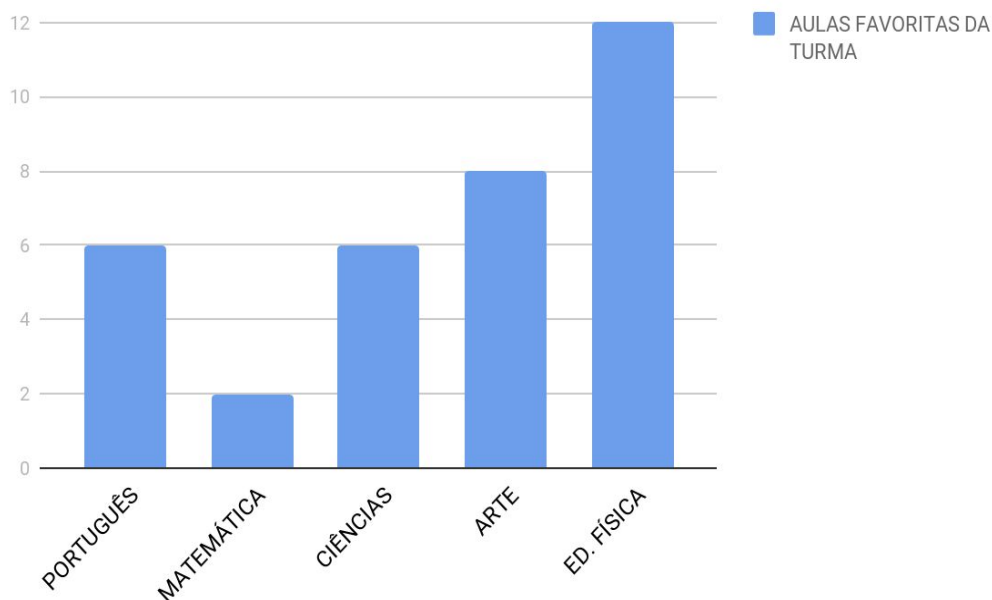


A. PODEMOS AFIRMAR QUE A CANTINA VENDEU MAIS:



2) NA CLASSE DE ROBERTA AS CRIANÇAS TEM SUAS AULAS PREFERIDAS, UM DIA A PROFESSORA FICOU CURIOSA COM ISSO E FEZ UMA PESQUISA COM OS ALUNOS COM A SEGUINTE PERGUNTA: QUAL SUA AULA FAVORITA?

AULAS PREFERIDAS DA TURMA



COM BASE NA PESQUISA PODEMOS AFIRMAR:

OS ALUNOS GOSTAM MAIS DE PORTUGUÊS DO QUE DE EDUCAÇÃO FÍSICA

A AULA FAVORITA DA TURMA É ARTES

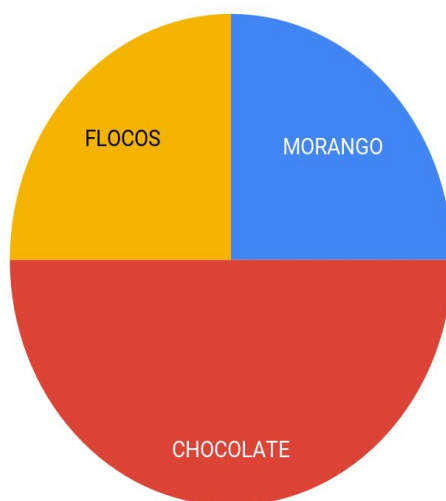
OS ALUNOS GOSTAM MAIS DE PORTUGUÊS DO QUE DE MATEMÁTICA

SEIS ALUNOS PREFEREM AS AULAS DE CIÊNCIAS

3 [DESAFIO]

OBSERVE O GRÁFICO ABAIXO:

SABORES DE SORVETE PREDILETOS DOS ALUNOS DO 1º ANO



- A. O SABOR PREDILETO DE SORVETE DAS CRIANÇAS É: _____
- B. QUEM FOI ENTREVISTADO NESTA PESQUISA?
- C. QUAIS SABORES AS CRIANÇAS GOSTAM MENOS?
- D. AS CRIANÇAS GOSTAM MAIS DE FLOCOS OU MORANGO?