




Atividades Complementares - MAT5_12ALG03

1- O número de passagens de uma empresa de ônibus, aumentou o ano passado nas seguintes condições:

Janeiro	Fevereiro	Março
		
300 passagens	450 passagens	600 passagens

Esse padrão de crescimento se mantém para os meses seguintes.

a) Qual é o padrão de formação desta sequência?

b) Quantas passagens foram vendidas por essa empresa em junho do ano passado?

2- Qual é o número que está faltando nesta sequência? Assinale a resposta correta.



() 12 () 15 () 18 () 11

❖ Você sabe me dizer o padrão desta sequência?

[Desafio] Observe a sequência.

1 - 3 - 6 - 10 - 15 - ___ - ___ - ___ - 45 - 55

Descubra o padrão da sequência e complete os três números que faltam.