
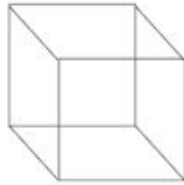


1- VEJA OS DESENHOS ABAIXO:

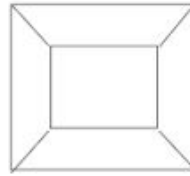
(A)



(B)



(C)



(D)



QUAL DELES REPRESENTA UMA CAIXA VISTA DE CIMA? MARQUE COM **X** A RESPOSTA CERTA.


2- COMO É A REPRESENTAÇÃO DO LIXEIRO DA SALA DE AULA VISTO DE CIMA? FAÇA O DESENHO:

3- OLHANDO PARA SUA CARTEIRA, CONSEGUE DESENHÁ-LA NESTE ESPAÇO? QUAL FORMA GEOMÉTRICA ELA POSSUI?

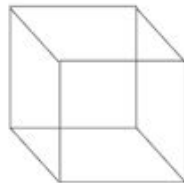
-----corte aqui-----

1- VEJA OS DESENHOS ABAIXO:

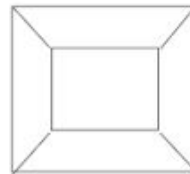
(A)



(B)



(C)



(D)



QUAL DELES REPRESENTA UMA CAIXA VISTA DE CIMA? MARQUE COM **X** A RESPOSTA CERTA.

2- COMO É A REPRESENTAÇÃO DO LIXEIRO DA SALA DE AULA VISTO DE CIMA? FAÇA O DESENHO:

3- OLHANDO PARA SUA CARTEIRA, CONSEGUE DESENHÁ-LA NESTE ESPAÇO? QUAL FORMA GEOMÉTRICA ELA POSSUI?