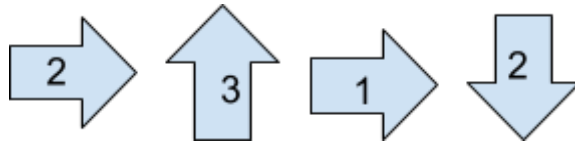
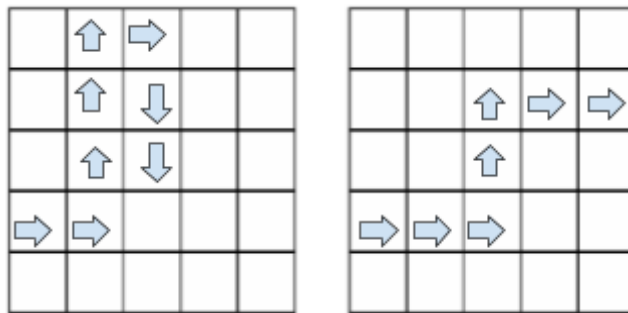


ATIVIDADES COMPLEMENTARES - MAT4_17GEO05

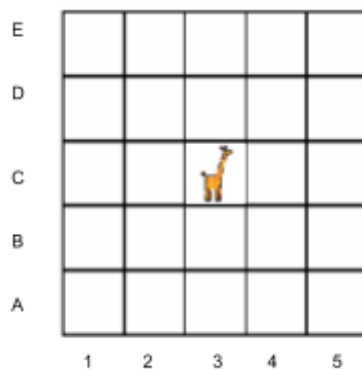
1. Observe as instruções e marque com um X a resposta correta:



Qual dos trajetos abaixo, corresponde às instruções dadas?



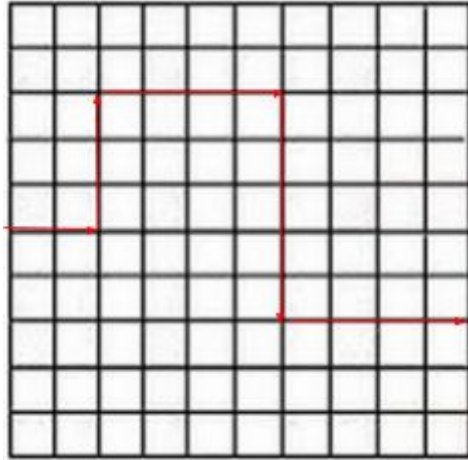
2. Observe a malha quadriculada abaixo:



- Em que posição se encontra a girafa?
(A) C4
(B) C3
(C) B3
(D) D3
- Para chegar no E3, por qual casa a girafa passará?
(A) C2
(B) D3
(C) B3
(D) C5

3. Desafio!

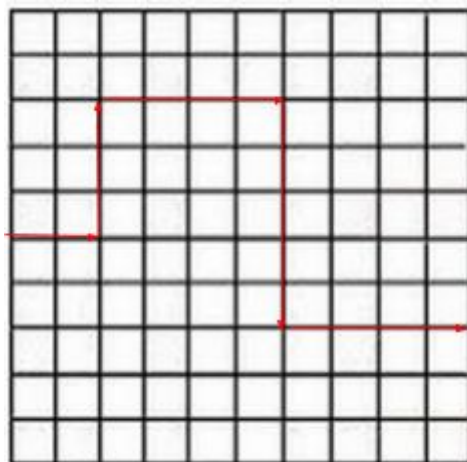
Observe o caminho traçado na malha quadriculada abaixo:



Desenhe a instrução desse caminho com setas:

3. Desafio!

Observe o caminho traçado na malha quadriculada abaixo:



Desenhe a instrução desse caminho com setas: