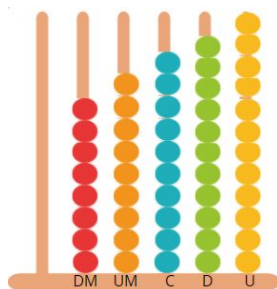


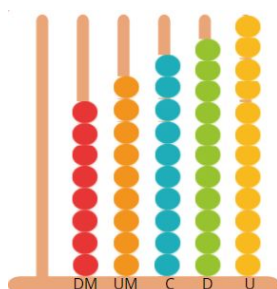
Em uma brincadeira, montei o ábaco a seguir, mas não estou conseguindo identificar o número que ele representa. Você poderia me ajudar?



Escreva o número que Guilherme representou no ábaco. Lembre-se que os números no Sistema de Numeração Decimal são formados a partir de agrupamentos e trocas de ordens.

-----

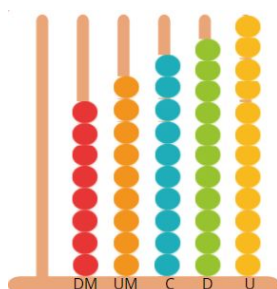
Em uma brincadeira, montei o ábaco a seguir, mas não estou conseguindo identificar o número que ele representa. Você poderia me ajudar?



Escreva o número que Guilherme representou no ábaco. Lembre-se que os números no Sistema de Numeração Decimal são formados a partir de agrupamentos e trocas de ordens.

-----

Em uma brincadeira, montei o ábaco a seguir, mas não estou conseguindo identificar o número que ele representa. Você poderia me ajudar?



Escreva o número que Guilherme representou no ábaco. Lembre-se que os números no Sistema de Numeração Decimal são formados a partir de agrupamentos e trocas de ordens.