





Em cada item pinte a quantidade que representa fração centesimal e em seguida escreva na forma de porcentagem.

a) $\frac{1}{4}$

b) $\frac{1}{5}$

c) 0,5

d) 0,1







Em cada item pinte a quantidade que representa fração centesimal e em seguida escreva na forma de porcentagem.

a) $\frac{1}{4}$

b) $\frac{1}{5}$

c) 0,5

d) 0,1



Em cada item pinte a quantidade que representa fração centesimal e em seguida escreva na forma de porcentagem.

a) $\frac{1}{4}$

b) $\frac{1}{5}$

c) 0,5

d) 0,1

